

SCHOOL-SCOUT.DE

Unterrichtsmaterialien in digitaler und in gedruckter Form

Auszug aus:

Mein Rätselblock Mathematik, 1. Klasse

Das komplette Material finden Sie hier:

School-Scout.de



Dieser Block gehört:

(Dein Name)

Inhaltsverzeichnis

Der Zahlenraum bis 10

Mengen	1, 4, 6, 7, 83
Orientierung im Zahlenraum	2, 7, 10, 12, 14
Ordnungszahlen	11, 15
Plusaufgaben	16-19, 21
Minusaufgaben	22-24, 29
Gemischte Aufgaben	25, 26, 28, 30
Sachaufgaben	84, 86

Der Zahlenraum bis 20

Mengen	31, 35, 41, 85
Orientierung im Zahlenraum	32, 34, 39, 40, 42, 57, 78
Zahlen vergleichen/ordnen	33, 37, 41
Gemischte Aufgaben	45, 46, 49, 50, 52, 54, 57
Minusaufgaben	47
Plusaufgaben	51, 53, 55, 58, 73
Verdoppeln und halbieren	53, 59, 61
Sachaufgaben	85

Zehnerzahlen bis 100

Orientierung im Zahlenraum	78
Gemischte Aufgaben	80

Logik und Konzentration

Logik	3, 36, 38, 42, 54
Logische Reihen	3, 38, 64
Aufmerksamkeit	8, 13, 35, 44, 63, 67, 71, 83
Links und rechts	62, 70

Formen und Maße


Größe und Gewicht	5, 11
Formen erkennen	63, 71
Tangram	65
Orientierung im Raum	68, 70
Spiegelsymmetrie	69
Geldbeträge	72, 73
Uhrzeit	74, 75
Längen messen	76, 77

Daten und Tabellen

Daten auswerten	81-83
Mal- und Knobelspaß	9, 27, 36, 43, 48, 60, 67, 79

Lösungen	87-96
-----------------	-------

Welches Bild passt zu welcher Zahl? Verbinde die Paare mit Linien. Nimm ein Lineal.



P

B

K

P

U

I

R

M

S

E

A

L

N

1

5

3


2

4


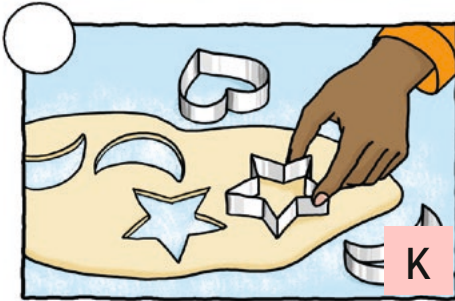
Die Buchstaben, die du durchgestrichen hast, ergeben von 1 bis 5 ein Lösungswort. Trage ein.

Lösung:

Finde die Zahlen in den Feldern. Male sie aus:
 Felder mit Zahlen, die kleiner sind als 4 = **blau**
 Felder mit Zahlen von 4 bis 6 = **rot**
 Felder mit Zahlen, die größer sind als 6 = **gelb**



Tobi und Lea backen Kekse. Doch in welcher Reihenfolge? Nummeriere die Bilder von 1 bis 6.




Trage die Buchstaben richtig ein. Dann weißt du, wie die Kekse schmecken.


Lösung:

Auf der Wildblumenwiese summt und brummt es. Bündele die Insekten in kleine Gruppen.


Immer 3 Stück:



Immer 4 Stück:




Immer 5 Stück:



Immer 6 Stück:



Größer (>) oder kleiner (<)? Füge die richtigen Zeichen ein.



Jedes Kaninchen soll 5 Karotten aus dem Korb bekommen. Male die fehlenden Karotten hinzu und streiche sie im Korb durch.



Mein Rätselblock Mathe 1. Klasse

- abwechslungsreiche Übungen zu allen Bereichen des Matheunterrichts
- vielseitige Rätselformate
- kindgemäße Aufgaben, die Spaß machen
- spielerisches Lernen zur Ergänzung und Wiederholung
- mit Lösungen am Ende des Blocks



Noch mehr Titel unter
www.hauschkaverlag.de

ISBN 978-3-88100-691-0



9 783881 006910

[D] € 9,90
[A] € 10,20

SCHOOL-SCOUT.DE

Unterrichtsmaterialien in digitaler und in gedruckter Form

Auszug aus:

Mein Rätselblock Mathematik, 1. Klasse

Das komplette Material finden Sie hier:

School-Scout.de

