

SCHOOL-SCOUT.DE

Unterrichtsmaterialien in digitaler und in gedruckter Form

Auszug aus:

Mein Übungsheft Rechnen - 4. Klasse

Das komplette Material finden Sie hier:

School-Scout.de



Inhaltsverzeichnis

Wiederholung

Addition/Subtraktion bis 1000	1
Multiplikation/Division bis 1000	6

Zahlen entdecken und rechnen bis 1 000 000

Zahlen bis 10 000	10
Addition/Subtraktion bis 10 000	12
Zahlen bis 100 000	14
Addition/Subtraktion bis 100 000	15
Multiplikation/Division bis 100 000	17
Zahlen bis 1 000 000	20
Schriftliche Addition/Subtraktion	22
Schriftliche Multiplikation/Division	30

Rechnen mit Größen

Geldbeträge	42
Längenmaße	45
Gewichte	48
Hohlmaße	51
Zeit	54
Gemischte Aufgaben	56

Herausnehmbarer Lösungsteil nach Seite 28

Hauschka Lernhilfen, Heft 434
© 2021 Hauschka Verlag GmbH
Lilienthalstr. 1, 82178 München
Telefon +49 89 8940667-0
Fax +49 89 8940667-69
E-Mail: info@hauschkaverlag.de
www.hauschkaverlag.de

Verfasserin: Diana Depireux, Obertshausen
Lektorat: Agnes Spiecker, Freising
Illustrationen: Mascha Greune, München;
Gisela Specht, Weßling
Gestaltung und Layout: Sina Weiß, München
Druck: PASSAVIA Druckservice GmbH & Co. KG, Passau
Printed in Germany. Alle Rechte vorbehalten.
ISBN 978-3-88100-434-3

1 Ordne die Zahlen von Groß nach Klein.

~~996~~
 632
 969
 963
696
 623
 936
 669

996 > _____ > _____ > _____ > _____ > _____ > _____

2

	T	H	Z	E		T	H	Z	E
69					dreiundzwanzig				
560					neunhundertzwanzig				
650					neunhundertsechs				
1000					eintausendvierzehn				

3

$30 + 20 = \underline{\quad}$	$40 + 30 = \underline{\quad}$	$50 + 40 = \underline{\quad}$
$300 + 200 = \underline{\quad}$	$400 + 300 = \underline{\quad}$	$500 + 400 = \underline{\quad}$
$60 - 30 = \underline{\quad}$	$80 - 20 = \underline{\quad}$	$90 - 60 = \underline{\quad}$
$600 - 300 = \underline{\quad}$	$800 - 200 = \underline{\quad}$	$900 - 600 = \underline{\quad}$

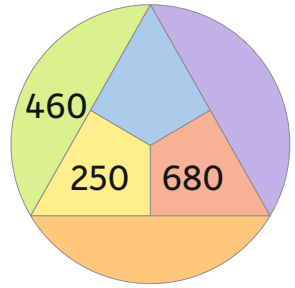
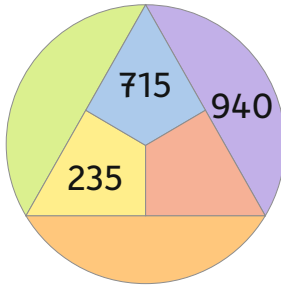
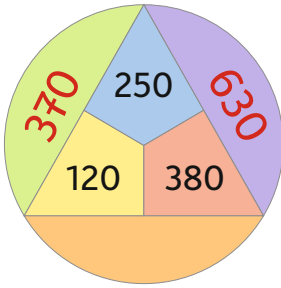
4

400 + 150 →
550 + 130 →
 + 50 →

900 - 350 →
 - 320 →
 - 50 →

830 - →
420 + →
510 - →
90

1 Zwei Felder nebeneinander ergeben addiert die Zahl am Kreisrand.



2 $23 + 35 = \underline{\quad}$ $52 + 27 = \underline{\quad}$ $86 - 43 = \underline{\quad}$

$123 + 35 = \underline{\quad}$ $152 + 27 = \underline{\quad}$ $186 - 43 = \underline{\quad}$

$323 + 135 = \underline{\quad}$ $552 + 227 = \underline{\quad}$ $586 - 143 = \underline{\quad}$

3 $491 + \underline{\quad} = 500$ $298 + \underline{\quad} = 304$ $774 + \underline{\quad} = 810$

$684 + \underline{\quad} = 700$ $395 + \underline{\quad} = 410$ $864 + \underline{\quad} = 930$

$106 - \underline{\quad} = 99$ $414 - \underline{\quad} = 380$ $725 - \underline{\quad} = 690$

$207 - \underline{\quad} = 195$ $513 - \underline{\quad} = 480$ $845 - \underline{\quad} = 799$

4 Beide Buchseiten ergeben zusammen immer 1000.



1	4 4 2	6 8 4	2 3 8	4 9 1
	+ 3 4 3	+ 2 1 0	+ 5 5 6	+ 3 6 5
	T 7 8 5	O	E	R
	2 3 2	3 2 5	1 6 6	4 8 8
	2 1 3	4 1 3	2 2 5	2 3 0
	+ 3 0 1	+ 1 4 2	+ 3 3 1	+ 2 0 5
	A	T	K	M

Ordne die Buchstaben vom kleinsten bis zum größten Ergebnis, dann erhältst du den Namen von dieser Tigerkatze.





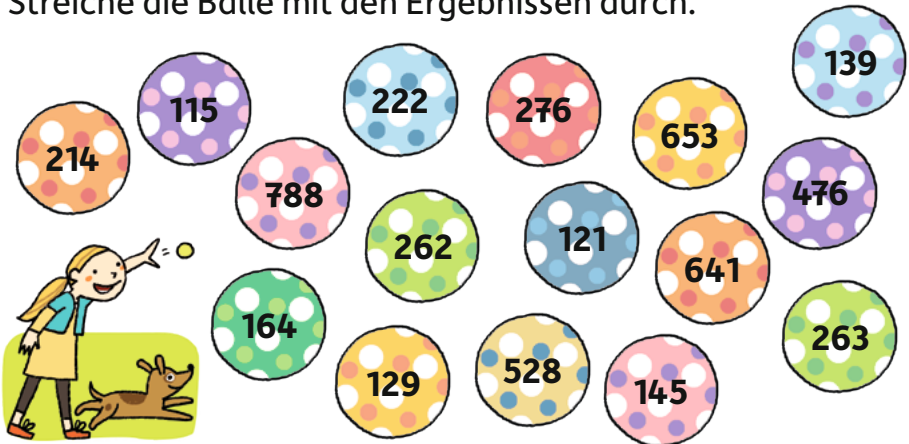
2 Welche Ziffern fehlen hier?



1	2	5 4	9 3	5
+ 5 3		+ 2 3 7	+ 1 5	+ 4 9 2
		1	1	1
4 7		2	8 5	8 8
3 0	8 6	1 9	6 9	
2 9	3 9 1	3 7	2 9	
+ 5 5 9	+ 2 2	+ 1 6 9	+ 1 8 8	
2	2	1 2	2 2	
9 2	8 4	7 5	7 0	

4 7 5	5 6 4	8 9 6	7 6 9
- 2 6 1	- 3 4 2	- 7 7 5	- 1 2 8
<hr/>	<hr/>	<hr/>	<hr/>
3 6 3	8 8 4	5 2 7	7 5 8
- 2 3 4	- 3 5 6	- 2 6 5	- 5 9 4
<hr/>	<hr/>	<hr/>	<hr/>
7 2 4	9 4 1	6 8 0	9 0 0
- 5 7 9	- 4 6 5	- 5 4 1	- 2 4 7
<hr/>	<hr/>	<hr/>	<hr/>
9 0 8	7 1 2	3 4 1	2 0 2
- 1 2 0	- 4 3 6	- 7 8	- 8 7
<hr/>	<hr/>	<hr/>	<hr/>

Streiche die Bälle mit den Ergebnissen durch.





Mein Übungsheft Rechnen

4. Klasse

- Rechnen üben im Zahlenraum bis 1000000
- Schritt für Schritt:
Addition, Subtraktion, Multiplikation, Division und
Rechnen mit Größen
- einfache Aufgabenstellungen
für selbstständiges Lernen
- mit herausnehmbarem Lösungsteil



Noch mehr Titel unter
www.hauschkverlag.de

ISBN 978-3-88100-434-3



9 783881 004343

[D] € 5,90
[A] € 6,10

SCHOOL-SCOUT.DE

Unterrichtsmaterialien in digitaler und in gedruckter Form

Auszug aus:

Mein Übungsheft Rechnen - 4. Klasse

Das komplette Material finden Sie hier:

School-Scout.de

