

SCHOOL-SCOUT.DE

Unterrichtsmaterialien in digitaler und in gedruckter Form

Auszug aus:

Rechnen mit Zehnerzahlen

Das komplette Material finden Sie hier:

School-Scout.de



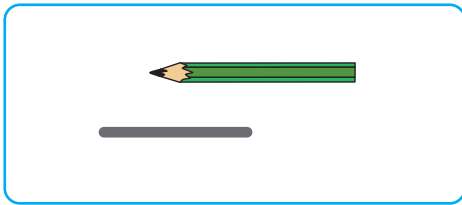
Addieren und Subtrahieren am Rechenstrich

Zehnerzahlen zerlegen	4
Zahlenhäuser	11
Zehnerzahlen addieren	14
$Z + Z$	
Zahlenmauern	17
$Z + Z$	
Addieren am Rechenstrich	18
$Z + \blacksquare = Z$	
Zehnerzahlen subtrahieren	21
$Z - Z$	
Subtrahieren am Rechenstrich	23
$Z - \blacksquare = Z$	
Addieren und Subtrahieren am Rechenstrich	26
$Z + \blacksquare = Z / Z - \blacksquare = Z$	
Ungleichungen	28
Zehnerzahlen addieren	30
$ZE + Z$	
Addieren am Rechenstrich	32
$ZE + \blacksquare = Z$	
Zehnerzahlen subtrahieren	34
$ZE - Z$	
Subtrahieren am Rechenstrich	36
$ZE - \blacksquare = Z$	
Zehnerzahlen subtrahieren	37
$ZE - Z$	
Addieren und Subtrahieren am Rechenstrich	38
$ZE + \blacksquare = ZE / ZE - \blacksquare = ZE$	
Zehnerzahlen addieren und subtrahieren	40
$ZE + Z / ZE - Z$	
Zahlenmauern	41

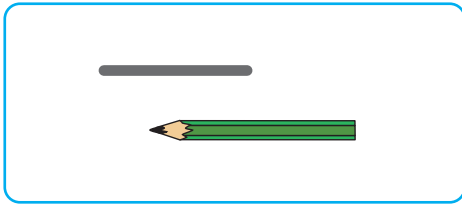
Zehnerzahlen zerlegen



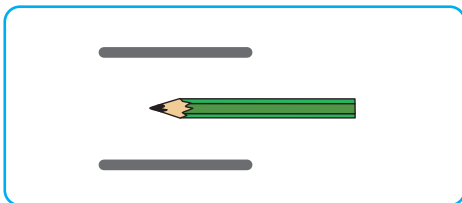
1 Verbinde die Zerlegung mit der Aufgabe.




$$10 = 10 + 0$$



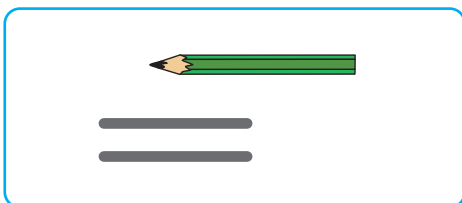
$$10 = 0 + 10$$



$$20 = 20 + 0$$

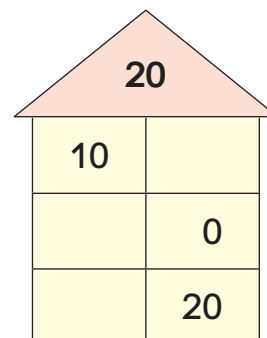
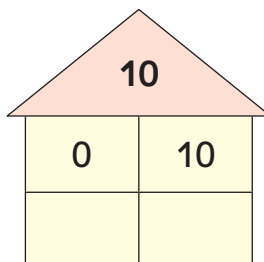


$$20 = 0 + 20$$



$$20 = 10 + 10$$

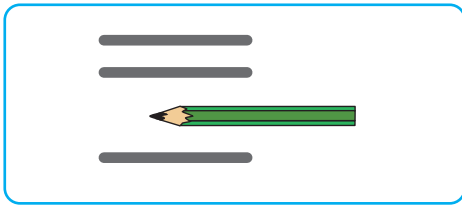
2 Ergänze die Zahnhäuser. Schreibe verschiedene Zerlegungen auf.



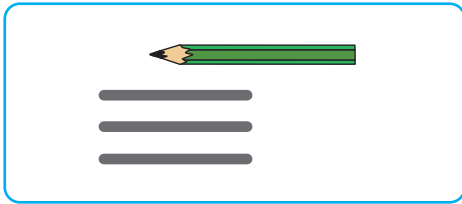
Zehnerzahlen zerlegen



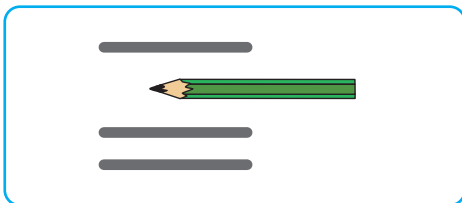
1 Verbinde die Zerlegung mit der Aufgabe.



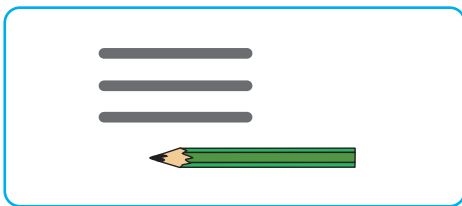
$$30 = 30 + 0$$



$$30 = 10 + 20$$



$$30 = 0 + 30$$



$$30 = 20 + 10$$

2 Ergänze die Zahlenhäuser. Schreibe verschiedene Zerlegungen auf.

10	
0	
10	

20	
10	
0	
20	

30	
0	
30	
10	
20	

Zehnerzahlen zerlegen



- Finde verschiedene Zerlegungen.
- Schreibe die Aufgaben auf.

$$40 = \square + \square$$

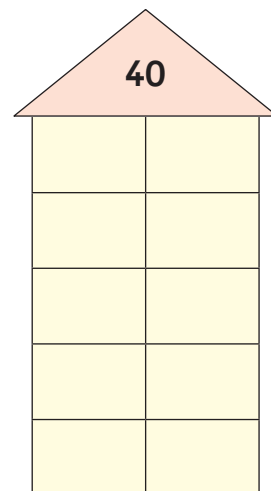
$$40 = \square + \square$$



$$40 = \square + \square$$

$$40 = \square + \square$$

$$40 = \square + \square$$



Zehnerzahlen zerlegen



- Finde verschiedene Zerlegungen.
- Schreibe die Aufgaben auf.

$50 = \square + \square$

$50 = \square + \square$



$50 = \square + \square$

$50 = \square + \square$

$50 = \square + \square$

$50 = \square + \square$

- Schreibe verschiedene Zehner-Zerlegungen auf.

$20 = \square + \square$

$30 = \square + \square$

$40 = \square + \square$

$20 = \square + \square$

$30 = \square + \square$

$40 = \square + \square$

SCHOOL-SCOUT.DE

Unterrichtsmaterialien in digitaler und in gedruckter Form

Auszug aus:

Rechnen mit Zehnerzahlen

Das komplette Material finden Sie hier:

School-Scout.de

