



SCHOOL-SCOUT.DE

Unterrichtsmaterialien in digitaler und in gedruckter Form

Auszug aus:

*Asien: Topografie, Gesellschaft, Bevölkerungsentwicklung -
mit zehn eingebetteten Videosequenzen!*

Das komplette Material finden Sie hier:

School-Scout.de





Inhalt

Diese Unterrichtseinheit umfasst folgende Themen:

Bereich: Südasien

1. Südasien – Topografie
2. Südasien – Der Monsun
3. Indien – Stadt und Land
4. Indien – Gesellschaft
5. Indien – Soziale Probleme
6. Indien – Bevölkerungsentwicklung



Bereich: Ost- und Südostasien

1. Ost- und Südostasien – Topografie
2. Leben in China
3. Leben in Japan
4. Reisanbau in Indonesien
5. Naturkatastrophen in Asien
6. Leben in unterschiedlichen Gesellschaftssystemen:
Menschenrechte in China



<https://pixabay.com/de/photos/person-frau-indien-felder-plantage-690245/> (CC0, 09.07.19)

<https://pixabay.com/de/photos/m%C3%A4dchen-junge-jungen-wenig-kinder-2048025/> (CC0, 09.07.19)



Südasien – Topografie

Großlandschaften und Staaten



<https://commons.wikimedia.org/w/index.php?curid=41452496> (CC BY-SA 4.0, Furfur, 09.07.19)

Durch das höchste Gebirge der Welt – den Himalaya – wird Südasien im Norden vom restlichen Asien getrennt. Deshalb nennt man Südasien auch Teil-, Unter- oder Subkontinent. Das Himalajagebirge entstand zur gleichen Zeit wie unsere europäischen Alpen, ist aber doppelt so lang. Weil das Himalajagebirge so hoch ist (fast 9000 Meter), sagt man auch, die Bewohner von Nepal und Bhutan leben auf dem Dach der Welt.

Im Süden des Himalaya befindet sich das Tiefland, das durch Aufschüttungen der Flüsse Ganges, Indus und Brahmaputra gebildet wurde. Diese drei großen Flüsse entspringen im Himalaya. Dort, wo Ganges und Brahmaputra in den Golf von Bengalen münden, haben sie weite Deltalandschaften gebildet. Diese sind so groß, dass sich auf der Deltafläche ein ganzer Staat befindet, nämlich Bangladesch.

Der größte Teil der indischen Halbinsel liegt auf dem Hochland von Dekkan. Dieses sehr alte Gebirge wurde mit der Zeit wieder abgetragen. Mittlerweile hat es eine Durchschnittshöhe von 600 Metern. Auf beiden Seiten wird die indische Halbinsel zum Meer hin von Seitengebirgen begrenzt: Auf der Seite des Golfs von Bengalen befinden sich die Ostghats und zum Arabischen Meer hin wird die Halbinsel durch die höheren Westghats begrenzt.

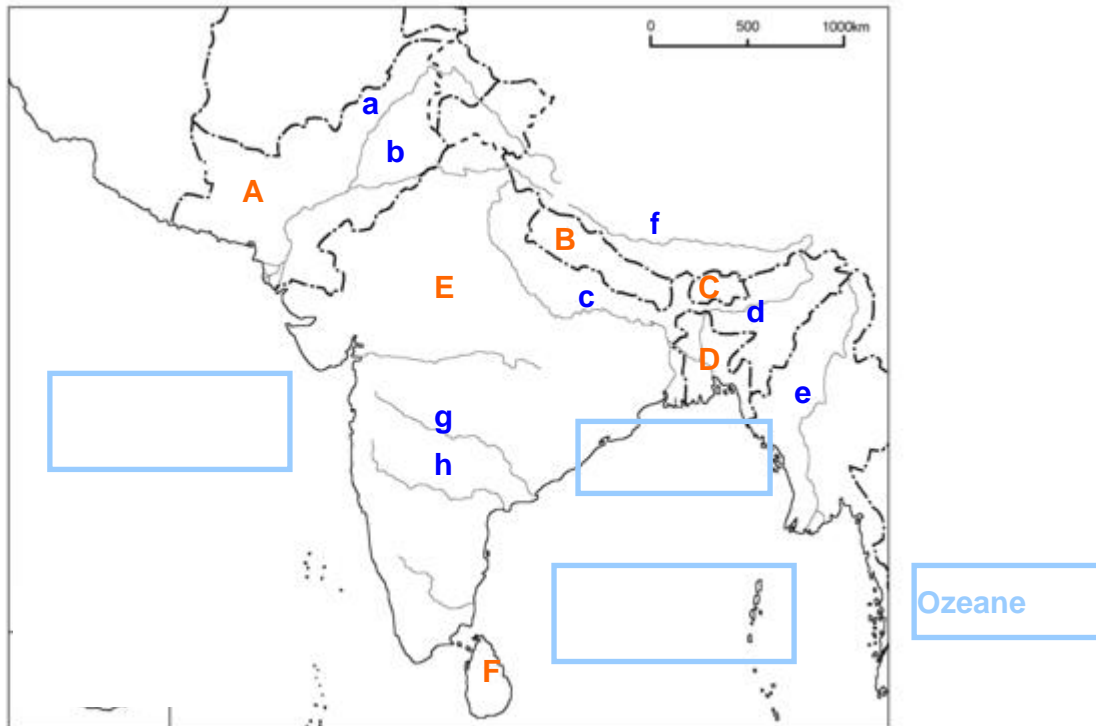
Neben Sri Lanka zählt auch die Inselgruppe der Malediven zu Südasien.



Südasien – Topografie

Arbeitsaufgaben

1. Trage mithilfe des Atlases die Hauptstädte der Staaten, die Flüsse und die Meere in die vorgesehenen Felder ein.



http://www.hoelzel.at/cms1/uploads/RTEmagicC_KO116S.TIF.jpg (30.10.09), am 09.07.19 war der Link nicht zugänglich

Flüsse

a:
b:
c:
d:
e:
f:
g:
h:

Hauptstädte

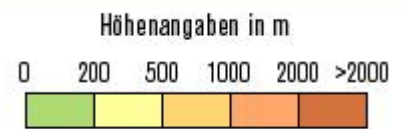
A:
B:
C:
D:
E:
F:

2. Ermittle die Anzahl der Breiten- und Längengrade, über die sich Südasien erstreckt.

3. Zeichne ein Höhenprofil von Bombay bis Bhubaneswar. Lege dazu die aufgezeichnete Tabelle an die eingezeichnete Linie auf dem Kartenausschnitt. Trage nun die Landhöhen zu den jeweiligen Punkten in die Tabelle ein und verbinde die Punkte.



<http://www.bpb.de/files/KB2V9E.jpg> (09.07.19)

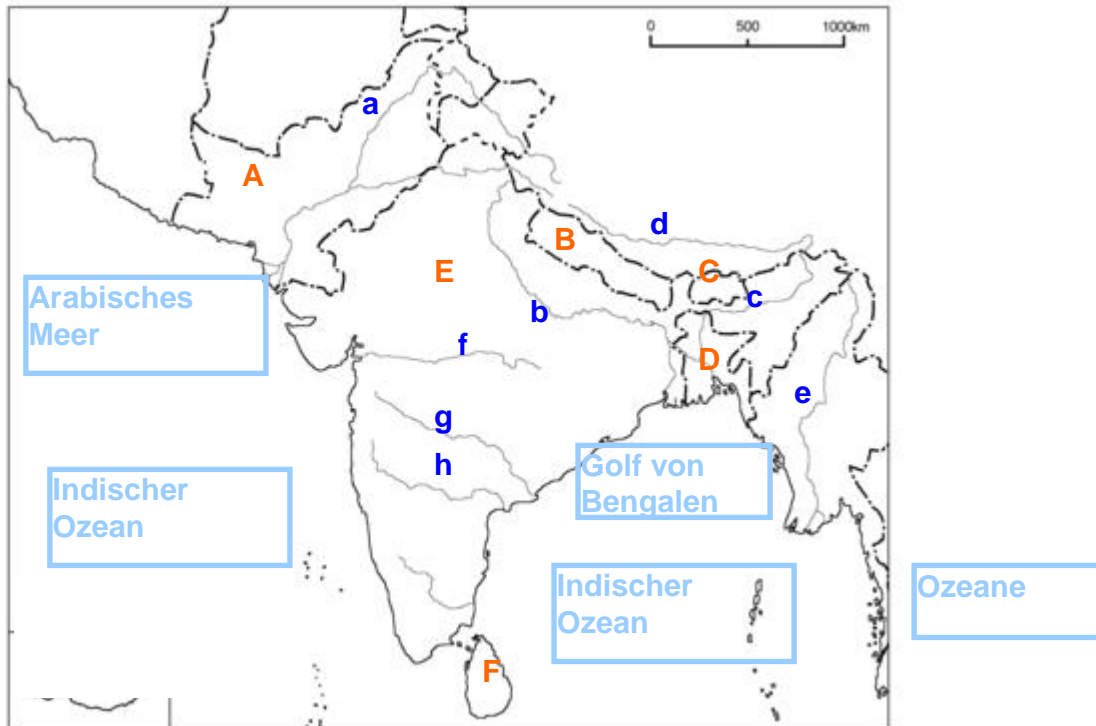




Südasien Topografie

Arbeitsaufgaben

1. Trage mithilfe des Atlases die Hauptstädte der Staaten, die Flüsse und die Meere in die vorgesehenen Felder ein.



http://www.hoelzel.at/cms1/uploads/RTEmagicC_KO116S.TIF.jpg (30.10.09), am 09.07.19 war der Link nicht zugänglich

Flüsse

- a: Indus
- b: Ganges
- c: Brahmaputra
- d: Yarlung
- e: Irawadi
- f: Narmada
- g: Godaveri
- h: Krishna

Hauptstädte

- A: Islamabad
- B: Kathmandu
- C: Thimphu
- D: Dhaka
- E: New Delhi
- F: Colombo

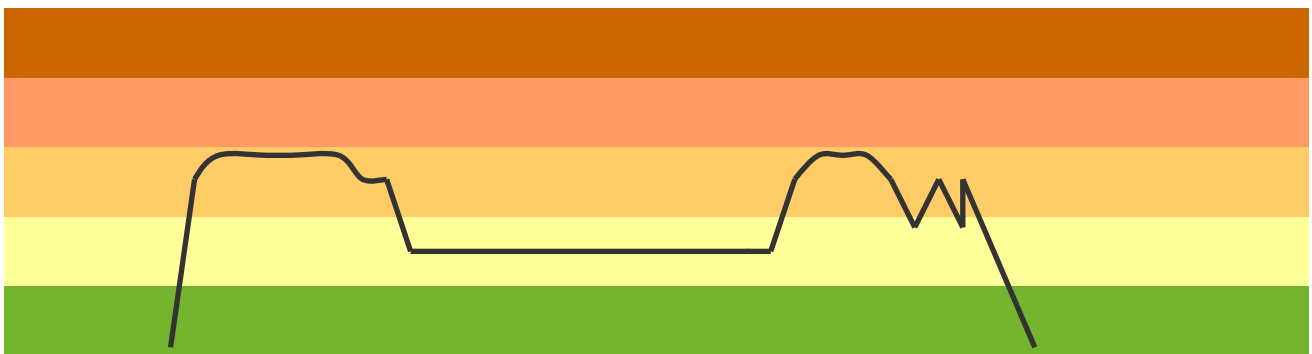
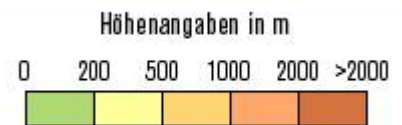
2. Ermittle die Anzahl der Breiten- und Längengrade, über die sich Südasien erstreckt.

30 Breitengrade, 35 Längengrade

3. Zeichne ein Höhenprofil von Bombay bis Bhubaneswar. Lege dazu die aufgezeichnete Tabelle an die eingezeichnete Linie auf dem Kartenausschnitt. Trage nun die Landhöhen zu den jeweiligen Punkten in die Tabelle ein und verbinde die Punkte.



Quelle Karte: <http://www.bpb.de/files/KB2V9E.jpg> (09.07.19)





Südasien

Südasien Großlandschaften – Eindrücke



Himalaya



Westghats



Gangesdelta



<https://pixabay.com/de/photos/mount-everest-himalaya-nuptse-276995/> (CC0, 09.07.19)

<https://pixabay.com/de/photos/regenwald-westghats-384945/> (CC0, 09.07.19)

<https://commons.wikimedia.org/w/index.php?curid=180779> (CC0, 09.07.19)

<https://pixabay.com/de/photos/indien-ganges-sonnenuntergang-fluss-3086067/> (CC0, 09.07.19)



Name:

Südasiens – Topografie

Lernzielkontrolle

1. Nenne die drei Großlandschaften Südasiums und beschreibe sie kurz.

2. Zeichne das Höhenprofil von Bombay (Westen) bis zur Ostküste Indiums (grob).

3. Bestimme, wo sich das Gangesdelta befindet und erkläre diesen Begriff.

4. Entscheide, ob die Bezeichnung „Südasiens“ einen Kultur- oder Naturraum benennt und erkläre, warum Südasiens als Subkontinent bezeichnet wird.



Südasiens – Topografie

Lernzielkontrolle

1. Nenne die drei Großlandschaften Südasiens und beschreibe sie kurz.

Himalajagebirge: höchstes Gebirge der Welt, Entstehung während der alpidischen Gebirgsbildung, ca. 2500 km lang

Stromtiefländer von Ganges, Brahmaputra, Indus: junge Aufschüttungsebenen am Südrand des Himalajagebirges

Hochland von Dekkan: altes, abgetragenes Gebirge, an den Seiten zum Meer hin von den Ghats begrenzt

2. Zeichne das Höhenprofil von Bombay (Westen) bis zur Ostküste Indiens (grob).



3. Bestimme, wo sich das Gangesdelta befindet und erkläre diesen Begriff.

Das Gangesdelta befindet sich dort, wo der Ganges ins Meer mündet (NO-Indien / Bangladesh). Es ist ein großer Aufschüttungsbereich des vom Ganges transportierten Materials.

4. Entscheide, ob die Bezeichnung „Südasiens“ einen Kultur- oder Naturraum benennt und erkläre, warum Südasiens als Subkontinent bezeichnet wird.

Naturraum

Südasiens wird durch das Himalajagebirge vom restlichen Kontinent Asien getrennt. Aufgrund seiner großen Ausdehnung kann Südasiens als Subkontinent bezeichnet werden.



SCHOOL-SCOUT.DE

Unterrichtsmaterialien in digitaler und in gedruckter Form

Auszug aus:

*Asien: Topografie, Gesellschaft, Bevölkerungsentwicklung -
mit zehn eingebetteten Videosequenzen!*

Das komplette Material finden Sie hier:

School-Scout.de

