

SCHOOL-SCOUT.DE



Unterrichtsmaterialien in digitaler und in gedruckter Form

Auszug aus:

VERA 3: Übungen - Raum und Form

Das komplette Material finden Sie hier:

School-Scout.de


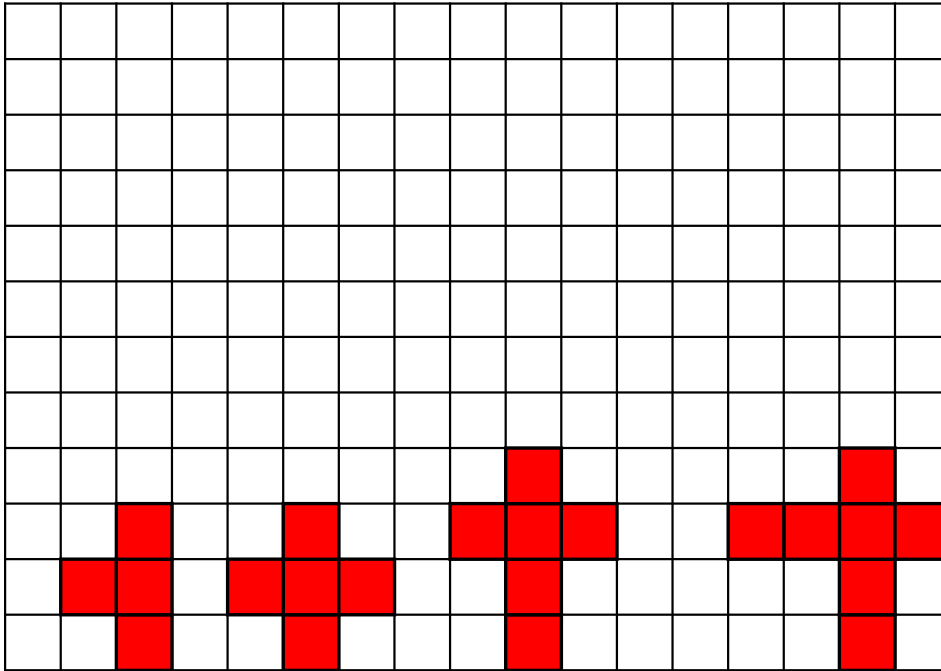


Inhaltsübersicht

| | |
|---|-----------|
| Fit für VERA 3 - | 3 |
| Informationen zu diesem Material | 4 |
| Spiegelverkehrt | 5 |
| Wie geht's weiter? | 6 |
| Puzzle | 7 |
| Würfelnetze | 8 |
| Was passt rein? | 9 |
| Hochstapler | 10 |
| Verdrehte Kiste | 11 |
| Vergrößern | 12 |
| Unvollkommen | 13 |
| Symmetrie | 14 |
| Lösungen | 15 |

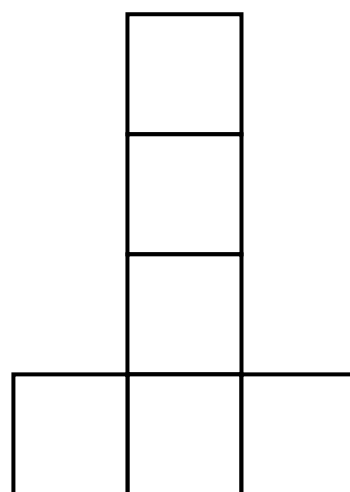

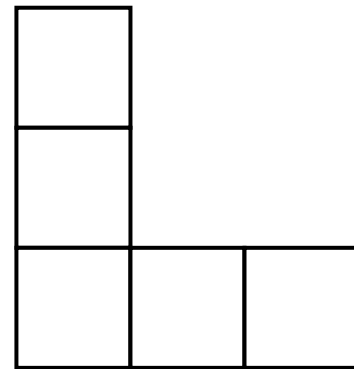
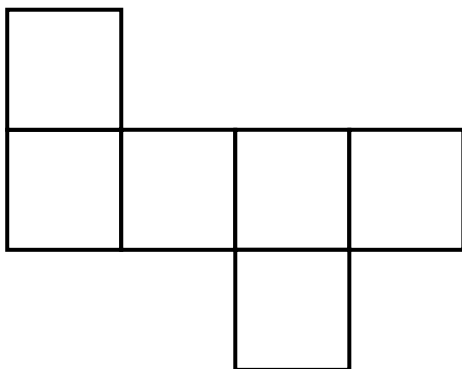
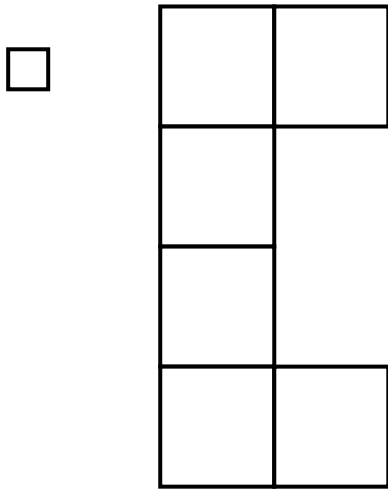
Wie geht's weiter?

In dem Gitternetz siehst du vier Figuren. Sieh sie dir genau an und zeichne dann Figur fünf und sechs. Wie müssen sie fortgesetzt werden?



Würfelnetze

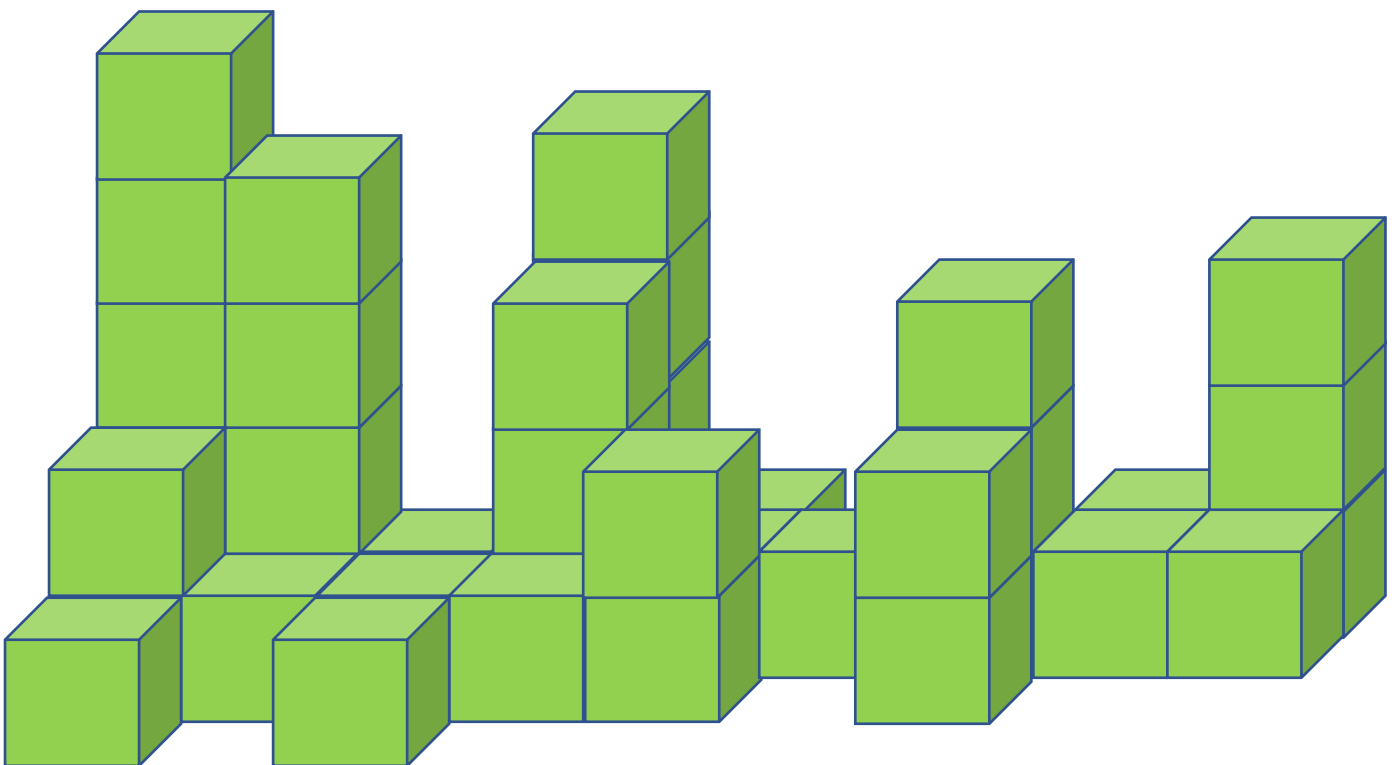
Welche Würfelnetze ergeben einen Würfel? Markiere sie.



Hochstapler

Andre will den Dachboden aufräumen und viele Kisten stapeln.
Wie viele Kisten hat er schon gestapelt?

Andre hat schon _____ Kisten gestapelt.



SCHOOL-SCOUT.DE

Unterrichtsmaterialien in digitaler und in gedruckter Form

Auszug aus:

VERA 3: Übungen - Raum und Form

Das komplette Material finden Sie hier:

School-Scout.de

