



SCHOOL-SCOUT.DE

Unterrichtsmaterialien in digitaler und in gedruckter Form

Auszug aus:

VERA 3: Blitztest 1 - Raum und Form

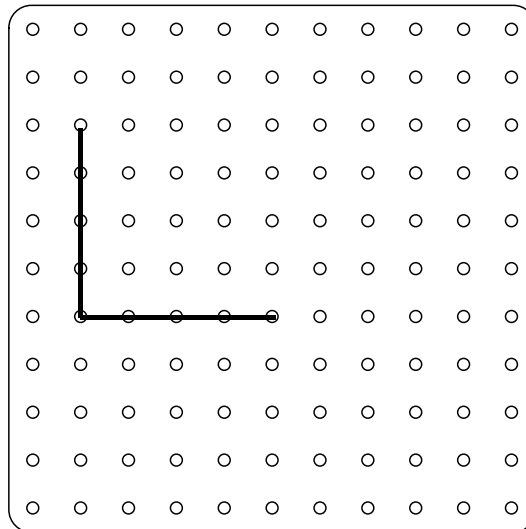
Das komplette Material finden Sie hier:

School-Scout.de

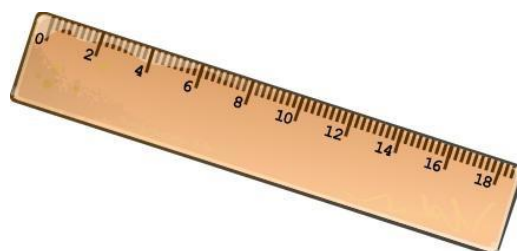
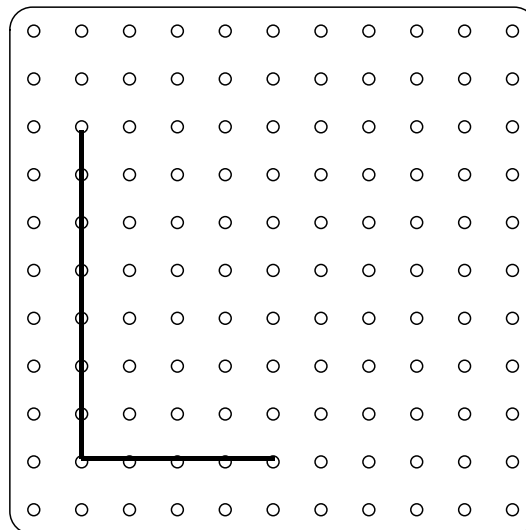


Da fehlt noch was!

a) Ergänze die Figur, sodass ein Dreieck entsteht.



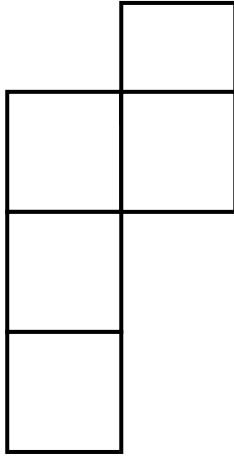
b) Ergänze die fehlenden Linien, sodass ein Viereck entsteht.



Würfel vervollständigen

Ergänze zu einem vollständigen Würfelnetz.

a)

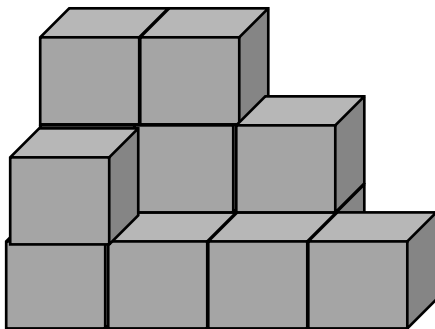


b)



Turmbauer

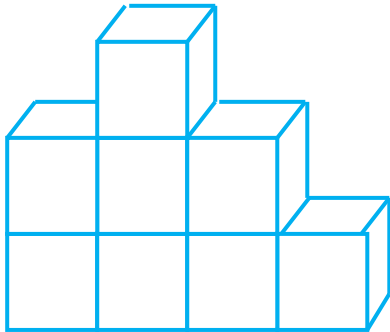
Florian möchte sein Spielzeug verkaufen und packt es in Kisten. Die 23 Kisten möchte er nun möglichst platzsparend stapeln. Wie viele Kisten hat er schon gestapelt?



Florian hat schon _____ Kisten gestapelt.

Bauplan

Welcher Bauplan passt zu dem Gebäude? Kreuze an.



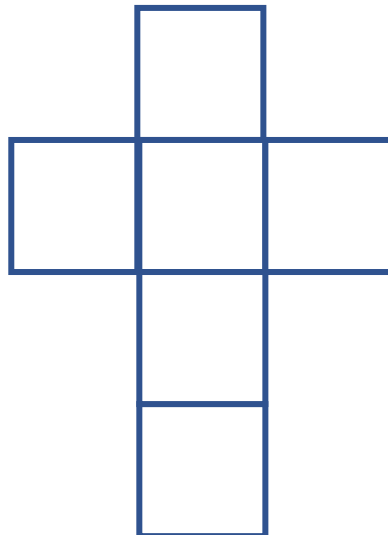
| | | | |
|---|---|---|---|
| 1 | 3 | 2 | 1 |
|---|---|---|---|

| | | | |
|---|---|---|---|
| 2 | 3 | 1 | 1 |
|---|---|---|---|

| | | | |
|---|---|---|---|
| 2 | 3 | 2 | 1 |
|---|---|---|---|

Farbwürfel

Die gegenüberliegenden Seiten dieses Würfels sollen jeweils die gleiche Farbe haben. Wähle drei Farben und male den Würfel an.





SCHOOL-SCOUT.DE

Unterrichtsmaterialien in digitaler und in gedruckter Form

Auszug aus:

VERA 3: Blitztest 1 - Raum und Form

Das komplette Material finden Sie hier:

School-Scout.de

