

# SCHOOL-SCOUT.DE

Unterrichtsmaterialien in digitaler und in gedruckter Form

## Auszug aus:

*Quer durch die 2. Klasse, Mathe und Deutsch - Übungen*

Das komplette Material finden Sie hier:

[School-Scout.de](http://School-Scout.de)



# Dieser Block gehört:

(Dein Name)

## Mathe

Orientierung im Hunderter	1-7
<b>Plus und minus</b>	
ohne Zehnerübergang	8-12
mit Zehnerübergang	13-19
<b>Einmaleins</b>	20-24
<b>Teilen</b>	25-28
<b>Sachrechnen</b>	
allgemein	23, 24, 25, 28, 29, 35
Geld	11, 12, 19
Uhrzeit	12, 30, 31
Längen	33
Knobelaufgaben	28, 34
Gemischte Aufgaben	32, 35




Ich heiße Anton.  
Ich begleite dich in  
diesem Block und  
gebe dir Tipps.

## Deutsch

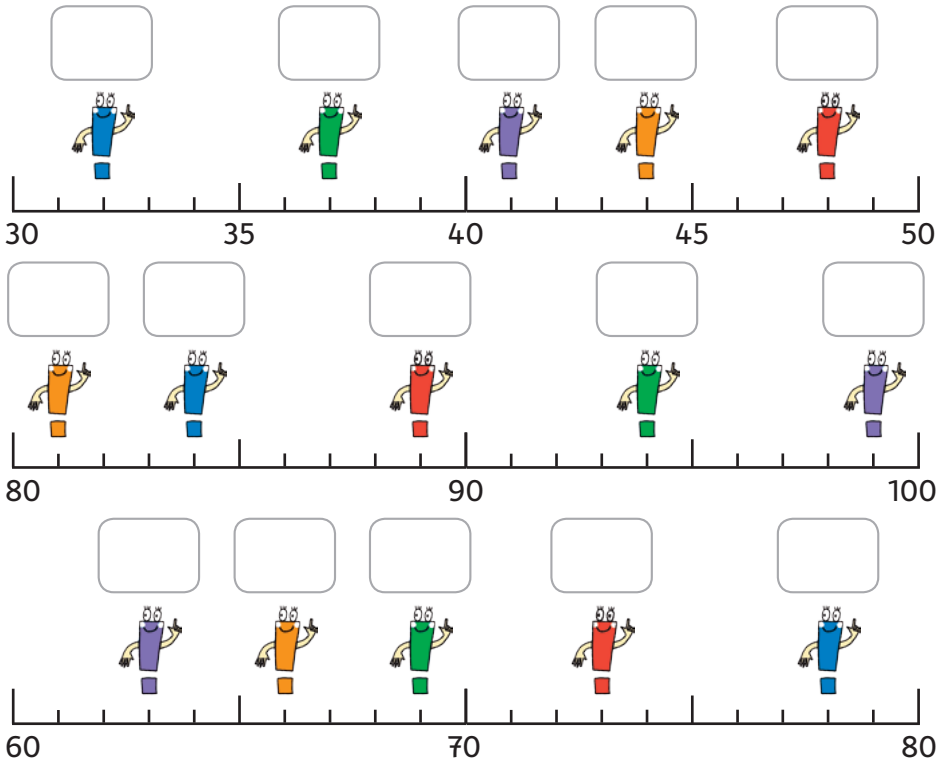
<b>Lesen</b>	36-42
<b>Grammatik</b>	
Sätze/Satzzeichen	43, 54
Abc	44
Silben/Vokale	45
Nomen	46-48
Verben	49-51
Adjektive	52-53
Sammelnamen	55
<b>Rechtschreibung</b>	
Endungen	56
st, sp, pf, ng, nk, qu, v	57-61
a/ä, au/äu	62
Das r, das man kaum hört	63-64
Harte und weiche Laute	65
ie	66
Konsonantenverdopplung	67-69
<b>Schreiben</b>	
Satzanfänge	70
Wortfeld sagen	71
Bildergeschichte	72
<b>Lösungen</b>	73-80

► Welches Kind wohnt in welchem Haus? Schreibe die gesuchte Zahl in das Feld neben die Sprechblase!

— = 10 und • = 1  
Jetzt musst du nur zusammenzählen!





► Auf welchen Zahlen stehen die Ausrufezeichen?




► Löse die Zahlenrätsel!

Meine Zahl liegt zwischen 50 und 60 und hat an der Einerstelle und der Zehnerstelle zwei gleiche Ziffern!

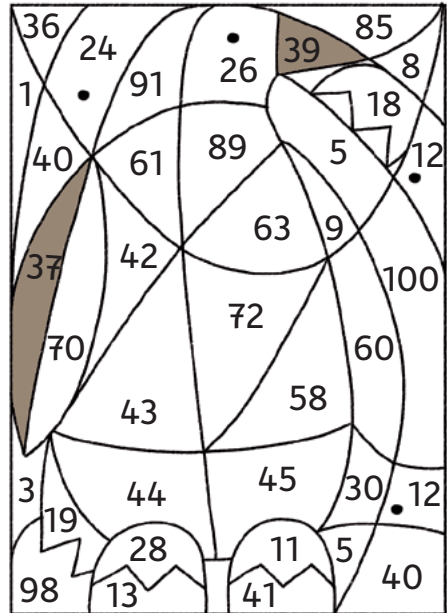


Meine Zahl besteht aus 8 und 5. Die Zahl an der Einerstelle ist die größere von beiden!

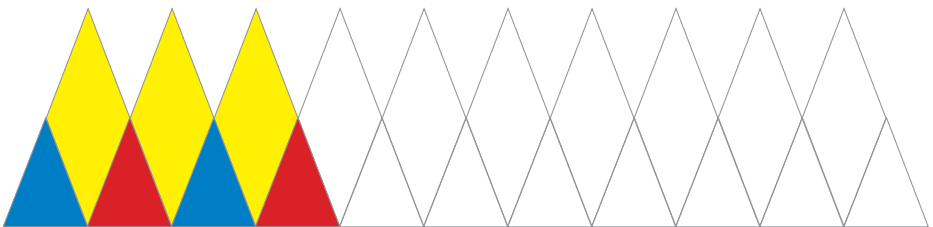


- Trage Vorgänger (V) und Nachfolger (N) ein!  
Male nur diese Zahlen farbig im Bild an!

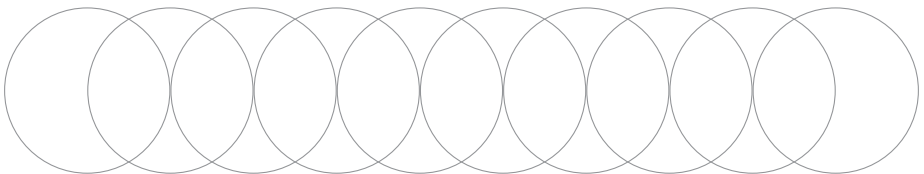
V	Zahl	N
<b>37</b>	38	<b>39</b>
	43	
	10	
	59	
	71	
	44	
	90	
	27	
	62	



- Setze das Muster fort!



- Überlege dir ein eigenes Farbmuster!



► Schreibe die Rechenbefehle in die Raketen und die fehlenden Zahlen in die Sterne!

The image contains three rows of stars on a blue background with small white and yellow stars. Each row is associated with a rocket or a hand.

- Top Row:** A rocket with the number  $+2$  is on the right. The stars from left to right contain the numbers 34, 36, and several empty stars.
- Middle Row:** A hand is on the left pointing to the stars. The stars from left to right contain the numbers 35, several empty stars, 55, 60, several empty stars, 59, and 63.
- Bottom Row:** A rocket is on the left and a hand is on the right pointing to the stars. The stars from left to right contain several empty stars, 82, 85, several empty stars, and 97.

# SCHOOL-SCOUT.DE

Unterrichtsmaterialien in digitaler und in gedruckter Form

## Auszug aus:

*Quer durch die 2. Klasse, Mathe und Deutsch - Übungen*

Das komplette Material finden Sie hier:

[School-Scout.de](http://School-Scout.de)

