



# SCHOOL-SCOUT.DE

Unterrichtsmaterialien in digitaler und in gedruckter Form

**Auszug aus:**


*VERA 3: Blitztest 2 - Muster und Strukturen*

Das komplette Material finden Sie hier:

[School-Scout.de](https://www.school-scout.de)





<b>Titel:</b>	<b>VERA Blitztest 2 Muster und Strukturen</b>
<b>Bestellnummer:</b>	<b>64338</b>
<b>Kurzvorstellung:</b>	<ul style="list-style-type: none"><li>• In 10 Minuten VERA – fit! Ob zu Hause oder im Klassenraum – mit diesem Blitztest für die Kompetenz „Muster und Strukturen“ im Fach Mathematik werden Ihre Schülerinnen und Schüler schnell feststellen, wo noch Übungsbedarf besteht.</li><li>• Kurze Aufgaben, die auch noch kurz vor den Vergleichsarbeiten in Klasse 3 die Stärken und Schwächen Schülerinnen und Schüler aufdecken – inklusive Lösungen!</li></ul>
<b>Inhaltsübersicht:</b>	<ul style="list-style-type: none"><li>• Autofahrt</li><li>• Gepaart</li><li>• Das passt!</li><li>• Was ist gültig?</li><li>• Farbenspiel</li><li>• Snack</li><li>• Schau genau!</li><li>• Lückenhaft</li><li>• Sudoku</li><li>• Lösungen</li></ul>
	Internet: <a href="http://www.School-Scout.de">http://www.School-Scout.de</a> E-Mail: <a href="mailto:info@School-Scout.de">info@School-Scout.de</a>

### Autofahrt

Timo fährt mit seinen Eltern seine Tante in München besuchen. Von Hamburg bis zu ihrem Ziel in der Nähe von München sind es 840 km. Timos Vater hat ein sehr altes Auto – schneller als 120 km/h können die drei deshalb nicht fahren. Nach 3 ½ Stunden machen Timo und seine Eltern Rast an einer Autobahnraststelle und essen zu Mittag.

- Wie viele Kilometer der Strecke haben Timo und seine Eltern nach 3 ½ Stunden zurückgelegt?
- Nach wie vielen Stunden kommen die drei an ihrem Ziel in München an?

Fülle die Tabelle aus und berechne gegebenenfalls Zwischensummen.

1 Stunde	2 Stunden	3 Stunden	3 ½ Stunden	5 Stunden
120 km				

Antwort: \_\_\_\_\_


\_\_\_\_\_

\_\_\_\_\_




### Farbenspiel

Welche der drei Möglichkeiten setzt die Farbfolge der Perlen richtig fort?



- 
- 
- 


Welche der drei Möglichkeiten setzt das dargestellte Muster fort?



- 
- 
-

## Snack

Tina isst gerne Nüsse. 40 kleine Nüsse wiegen circa 50 Gramm. Wie viele Nüsse sind in einer 250 g-Tüte?



Antwort: \_\_\_\_\_  
\_\_\_\_\_  
\_\_\_\_\_


Tinas Mutter gibt ihrer Tochter pro Tag eine Handvoll Nüsse mit in die Schule. Das sind ungefähr 30 Gramm. Für wie viele Tage reicht die 250 g Tüte?

Antwort: \_\_\_\_\_  
\_\_\_\_\_  
\_\_\_\_\_



### Schau genau

Welches Ergebnis passt zu der Darstellung?



- 766
- 19
- 667
- 76



- 43
- 7
- 33
- 143





# SCHOOL-SCOUT.DE

Unterrichtsmaterialien in digitaler und in gedruckter Form

**Auszug aus:**

*VERA 3: Blitztest 2 - Muster und Strukturen*

Das komplette Material finden Sie hier:

[School-Scout.de](https://www.school-scout.de)

