

# SCHOOL-SCOUT.DE

Unterrichtsmaterialien in digitaler und in gedruckter Form

## Auszug aus:

*Rund um den Zahlenstrahl (Kartei)*

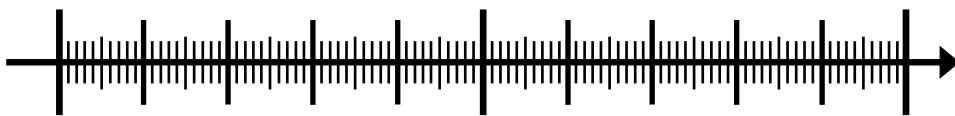
Das komplette Material finden Sie hier:

[School-Scout.de](http://School-Scout.de)




# Mathe mit dem kleinen Professor

## Rund um den Zahlenstrahl



# Mathe mit dem kleinen Professor


Die Kartei besteht aus 40 Aufgaben-Karten mit zahlreichen (gängigen) Übungen rund um den Zahlenstrahl im Zahlenbereich bis 100. Die Übungen sind auf unterschiedlichen Schwierigkeitsstufen und entsprechend gekennzeichnet.  Zu jeder Karte gibt es eine Lösungskarte, sodass ein eigenständiges Kontrollieren denkbar ist.

Mit der Kartei können die Kinder selbstständig Übungen zum Zahlenstrahl bearbeiten. Somit ist die Kartei als Freiarbeitsmaterial einsetzbar und bietet eine optimale Ergänzung zum Mathematik-Buch oder kann als vertiefendes/ differenzierendes Material eingesetzt werden.



1

Kannst du die Zahlen der Reihe nach auf die T-Shirts schreiben?

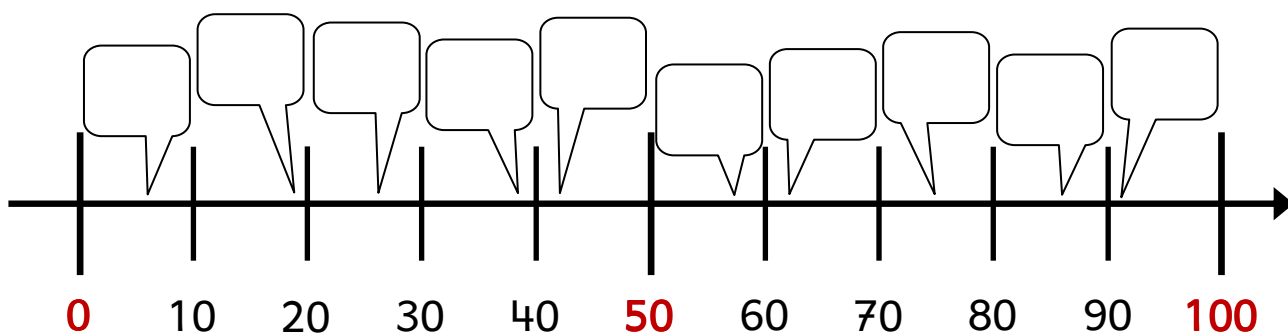


- 94   41   22   79   34   57   13   68



2

Wohin gehören die Zahlen?

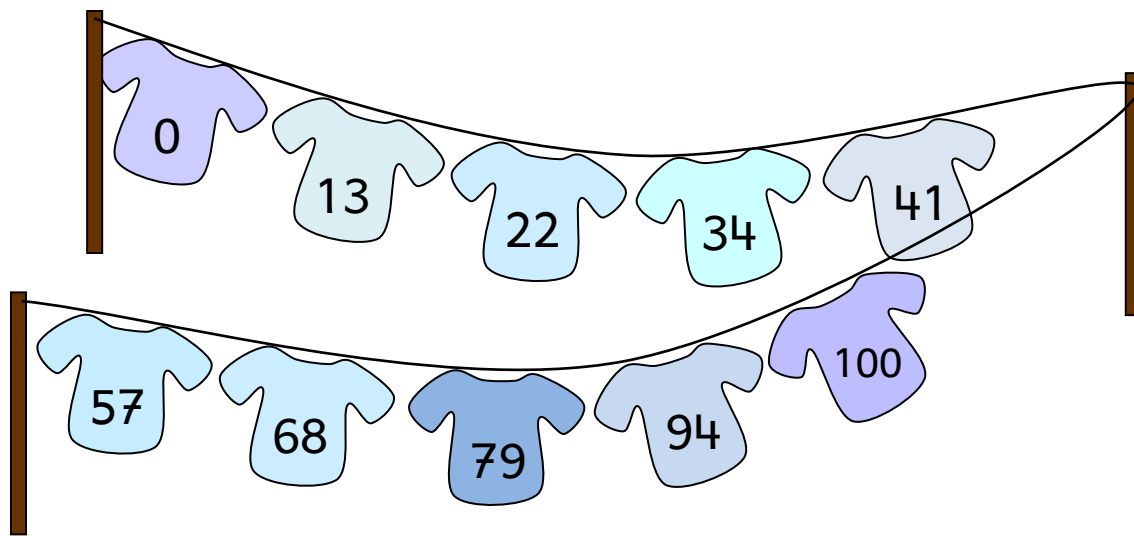


- 4   57   19   91  
63   75   86   42  
38   26



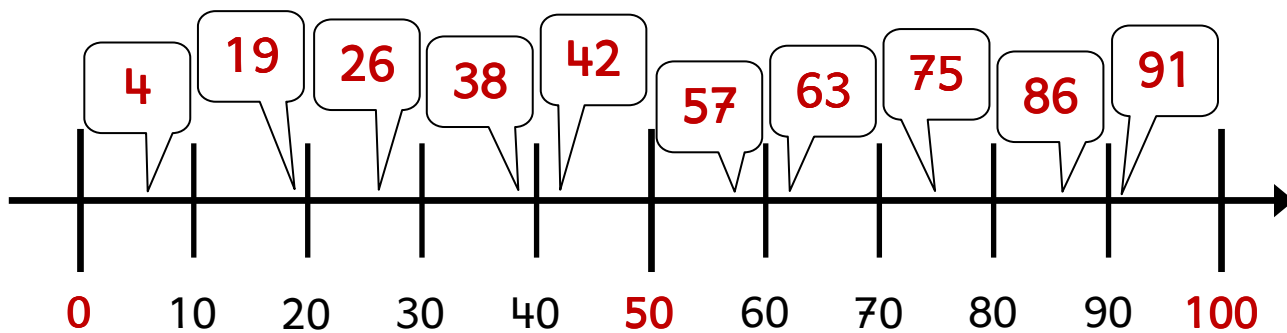
1

Lösung:



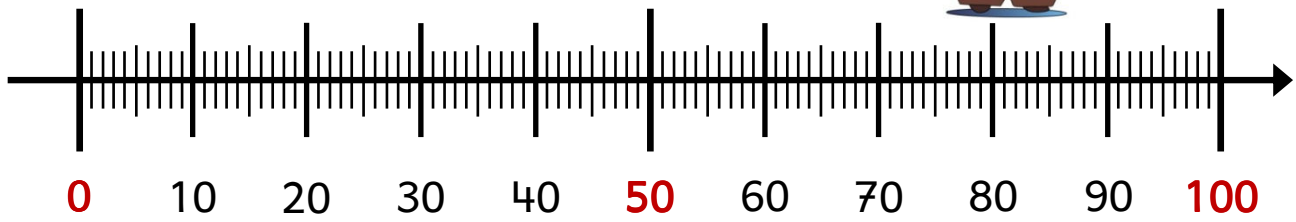
2

Lösung:



3

### Springe am Zahlenstrahl.



Springe 10 Mal auf dem Zahlenstrahl und notiere die Zahlen.

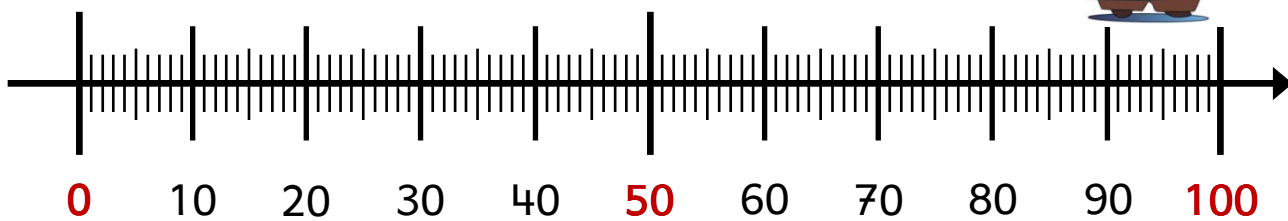
ab 10  $+4$

ab 15  $+5$

ab 60  $+2$

4

### Springen am Zahlenstrahl



Springe 10 Mal auf dem Zahlenstrahl und notiere die Zahlen.

ab 5  $+7$

ab 11  $+9$

ab 26  $+6$

3

Lösung:



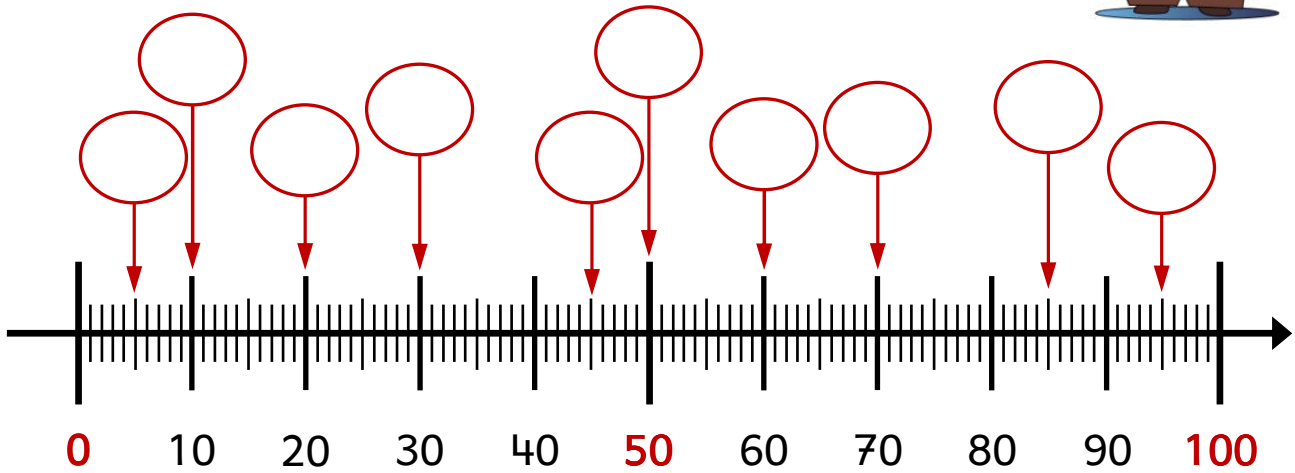
4

Lösung:



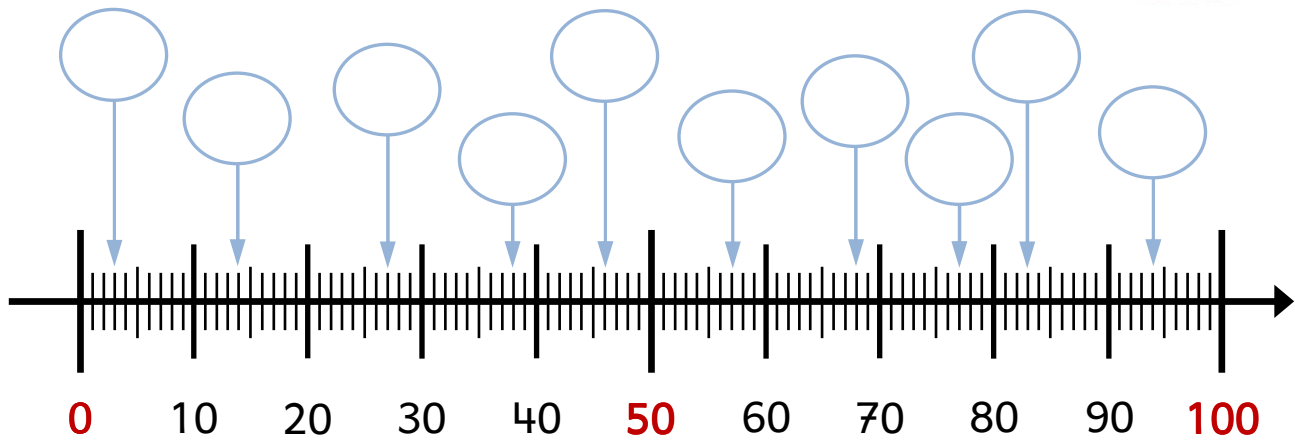
5

Kannst du die Zahlen ablesen?



6

Kannst du die Zahlen ablesen?



# SCHOOL-SCOUT.DE

Unterrichtsmaterialien in digitaler und in gedruckter Form

**Auszug aus:**

*Rund um den Zahlenstrahl (Kartei)*

Das komplette Material finden Sie hier:

[School-Scout.de](http://School-Scout.de)

