

SCHOOL-SCOUT.DE

Unterrichtsmaterialien in digitaler und in gedruckter Form

Auszug aus:

Wie spät ist es? Uhrzeit richtig ablesen

Das komplette Material finden Sie hier:


School-Scout.de






1. Wie spät ist es?


Zeichne den Stundenzeiger rot und den Minutenzeiger blau ein.




6:00 Uhr




3:00 Uhr




1:00 Uhr



4:00 Uhr



9:00 Uhr




11:00 Uhr

2. Wie spät ist es?


Schreibe die Uhrzeit auf.



Uhr




Uhr



Uhr



Uhr



Uhr




Uhr




1. Wie spät ist es?


Zeichne den Stundenzeiger rot und den Minutenzeiger blau ein.




2:30 Uhr




4:30 Uhr




9:30 Uhr



8 Uhr und 30 Minuten



1 Uhr und 30 Minuten




12 Uhr und 30 Minuten

2. Wie spät ist es?


Schreibe die Uhrzeit auf.




_____ Uhr




_____ Uhr




_____ Uhr



_____ Uhr und
_____ Minuten



_____ Uhr und
_____ Minuten





_____ Uhr und
_____ Minuten



Was ist richtig?

Verbinde.



11 Uhr und 30 Minuten

halb 11


10 Uhr und 20 Minuten



halb 6

halb 2


halb 3



halb 6

halb 5

5 Uhr und 6 Minuten



1 Uhr und 30 Minuten

halb 12

12 Uhr und 30 Minuten

SCHOOL-SCOUT.DE

Unterrichtsmaterialien in digitaler und in gedruckter Form

Auszug aus:

Wie spät ist es? Uhrzeit richtig ablesen

Das komplette Material finden Sie hier:

School-Scout.de

