



SCHOOL-SCOUT.DE

Unterrichtsmaterialien in digitaler und in gedruckter Form

Auszug aus: *Körper der Geometrie*

Das komplette Material finden Sie hier:

School-Scout.de



Aufgabe 1

Ordne diese Körper (Würfel, Kugel, Zylinder, Pyramide, Kegel, Quader) den folgenden Grundflächen zu!

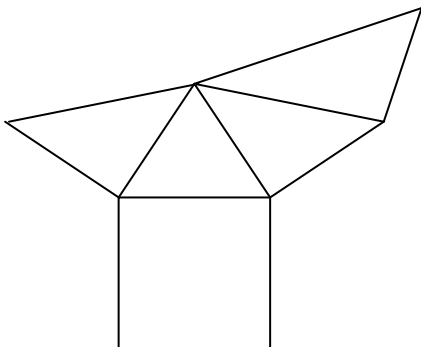
Kreis

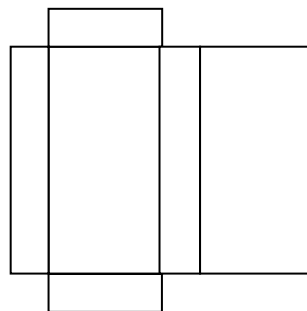
Quadrat

Rechteck

Aufgabe 2

Welcher Körper ist das?

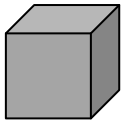





Aufgabe 4

Wie oft passt der Körper in das Gebilde?

a)



a = 3 cm

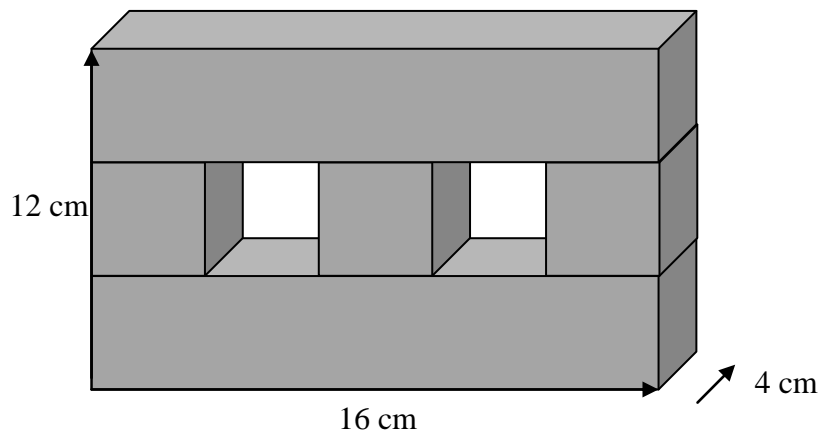


a = 18 cm b = 3 cm c = 3 cm

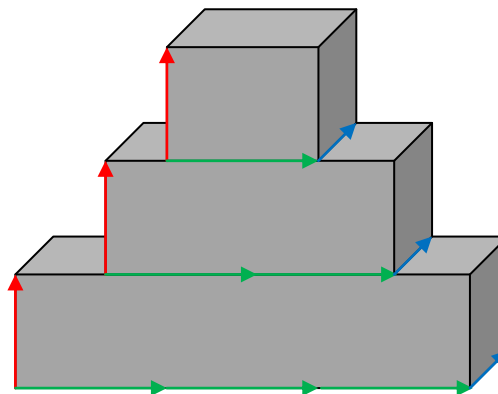
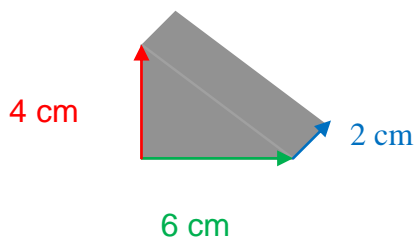
b)



a = 2 cm



c)





SCHOOL-SCOUT.DE

Unterrichtsmaterialien in digitaler und in gedruckter Form

Auszug aus: *Körper der Geometrie*

Das komplette Material finden Sie hier:

School-Scout.de

