



# SCHOOL-SCOUT.DE

Unterrichtsmaterialien in digitaler und in gedruckter Form

**Auszug aus:**

*Flüsse und Gebirge in Deutschland*

Das komplette Material finden Sie hier:

[School-Scout.de](http://School-Scout.de)






# DOWNLOAD

Jens Eggert

# Flüsse und Gebirge in Deutschland

Downloadauszug  
aus dem Originaltitel:



Name:	Datum:	
<b>Die vielfältigen Landschaftsformen</b>		

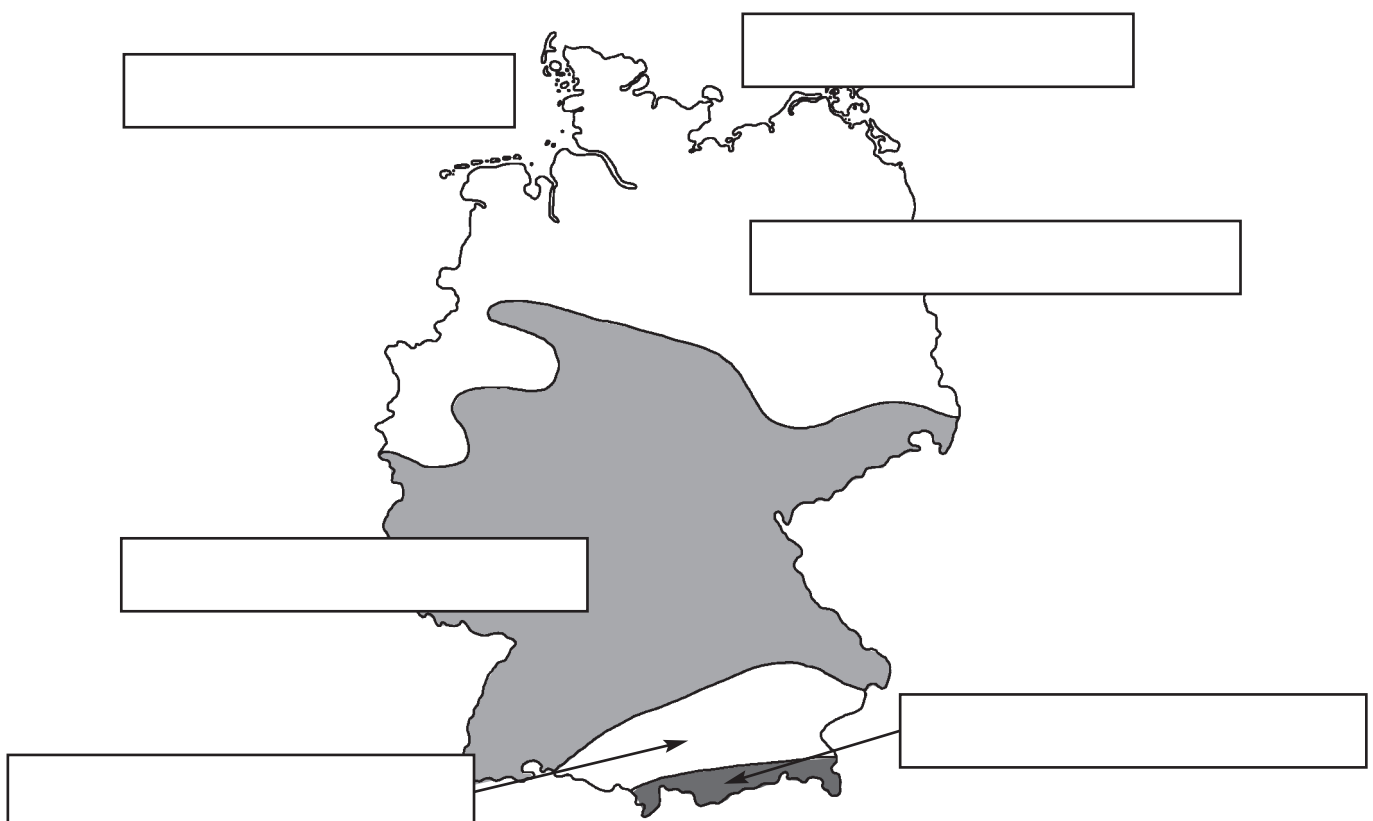
Deutschland ist ein Land mit unterschiedlichen Landschaftsformen. Von der Meeresküste bis zu den Alpen ist das Land knapp 900 Kilometer lang. An seiner breitesten Stelle in Ost-West-Richtung ist Deutschland etwa 630 Kilometer breit.


Im Norden grenzt an die **Nordsee** und **Ostsee** das **Norddeutsche Tiefland**. Es ist größtenteils sehr flach. Von der Meeresküste kommend steigt die Landschaft nur langsam in ihrer Höhe. Diesem flachen Gebiet folgt dann das **Mittelgebirgsstufenland**. In diesem Gebiet steigt die Landschaft merklich an. Je nach Mittelgebirge liegen die Höhen bei 500 bis 1000 Metern. Im süddeutschen Raum reichen die höchsten Gipfel des Schwarzwaldes und des Bayerischen Waldes über 1400 Meter.

Südlich der Donau liegt das **Alpenvorland**, das durchschnittlich 500 Meter hoch ist. Je weiter man nach Süden kommt, umso mehr gewinnt die Landschaft an Höhe. Ganz im Süden trifft man auf die mächtigen **Alpen**. Das ist ein zentrales Hochgebirge mitten in Europa. Zu Deutschland gehört nur ein kleiner Teil dieses Hochgebirges.

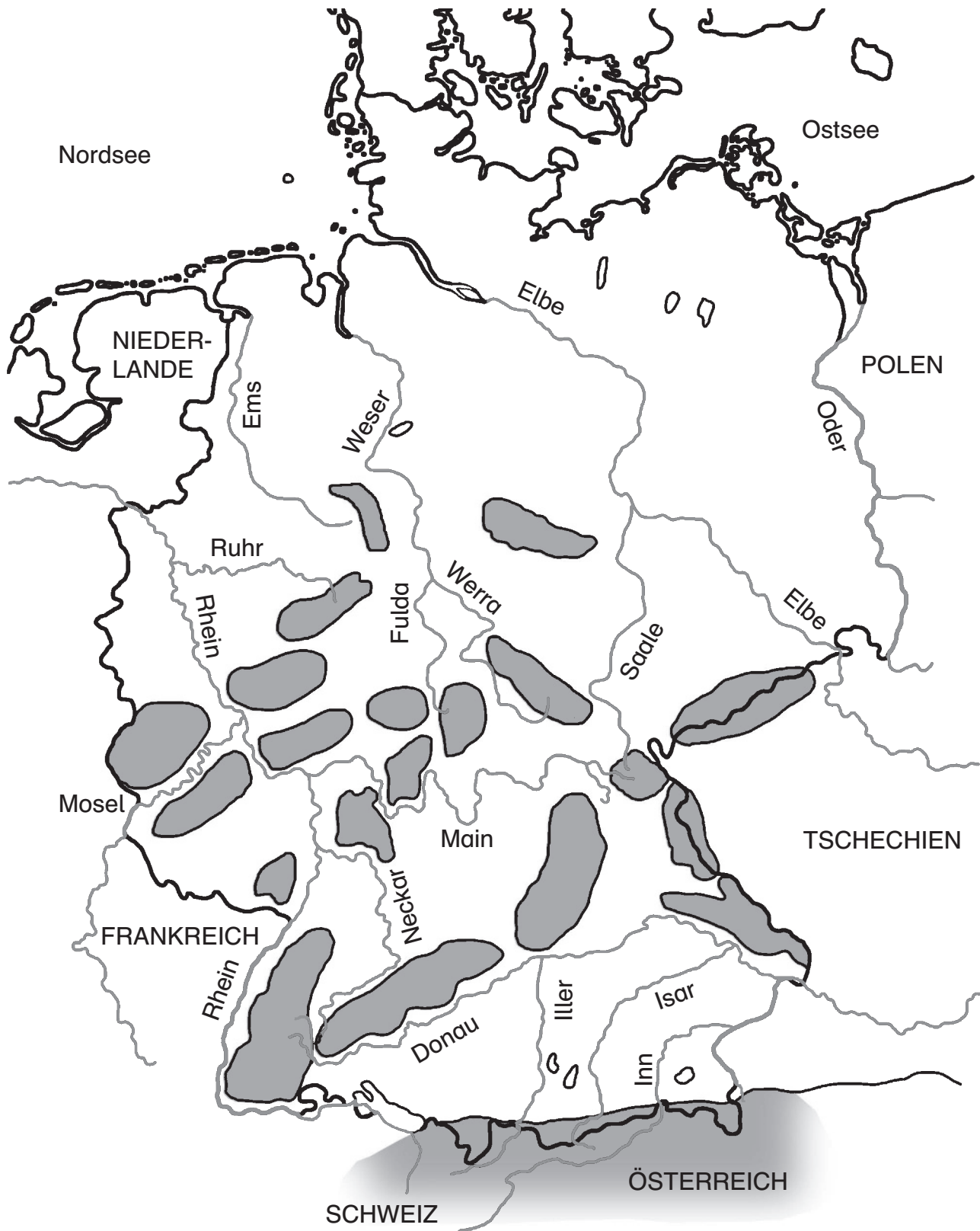
Das Wasser vieler Flüsse Süddeutschlands, die in die Donau münden, fließt über eine fast 2858 Kilometer lange Strecke ins Schwarze Meer. Das Wasser aller anderen Flüsse Deutschlands fließt fast vollständig über den Rhein, die Weser und die Elbe in die Nordsee. Nur wenige Flüsse aus dem Osten Deutschlands münden in die Ostsee.


**Schreibe die fettgedruckten Begriffe in das richtige Feld.**



Name:	Datum:	
<b>Flüsse in Deutschland</b>		

Deutschland ist ein Land, das reich an Flüssen ist. Sie fließen entweder in die Nordsee, Ostsee oder ins Schwarze Meer. Viele Flüsse entspringen in den zahlreichen Mittelgebirgen. Andere entspringen in angrenzenden europäischen Nachbarstaaten und fließen durch Deutschland hindurch.



Name:	Datum:	
<b>Flüsse in Deutschland</b>		

Beantworte die Fragen mithilfe der Karte und eines Atlanten.

1. Welche Flüsse fließen in die Nordsee? \_\_\_\_\_
2. Welcher Fluss fließt in die Ostsee? \_\_\_\_\_
3. In welches Meer fließt die Donau? \_\_\_\_\_
5. Zähle die drei Flüsse auf, die in den Alpen entspringen und in die Donau münden.  
\_\_\_\_\_
6. In welchem Land entspringt der Rhein? In welches Land fließt er, wenn er Deutschland verlässt?  
Er entspringt in der \_\_\_\_\_ und fließt weiter in die \_\_\_\_\_.
7. Zähle alle Flüsse auf, die in den Rhein münden: \_\_\_\_\_
8. Nenne die beiden Quellflüsse der Weser: \_\_\_\_\_
9. In welchem Land entspringt die Elbe? \_\_\_\_\_
11. Nenne den Grenzfluss, der zwischen Deutschland und Polen fließt. \_\_\_\_\_
12. Nenne den Grenzfluss zwischen Deutschland und Frankreich. \_\_\_\_\_

**Zusatzaufgaben – Beantworte folgende Fragen. Nimm einen Atlas zur Hilfe.**

**Z1 Welche Landeshauptstädte liegen an der Elbe?** \_\_\_\_\_

**Z2 An welchen Flüssen liegen diese Landeshauptstädte?**

Bremen - \_\_\_\_\_ München - \_\_\_\_\_ Stuttgart - \_\_\_\_\_

Wiesbaden - \_\_\_\_\_ Mainz - \_\_\_\_\_ Düsseldorf - \_\_\_\_\_

**Z3 Diese drei Landeshauptstädte liegen an Flüssen, die in unserer Karte nicht eingezeichnet sind. Wie heißen die Flüsse? Schreibe auf.**

Saarbrücken - \_\_\_\_\_ Berlin - \_\_\_\_\_ Hannover - \_\_\_\_\_



# SCHOOL-SCOUT.DE

Unterrichtsmaterialien in digitaler und in gedruckter Form

**Auszug aus:**

*Flüsse und Gebirge in Deutschland*

Das komplette Material finden Sie hier:

[School-Scout.de](http://School-Scout.de)

