



SCHOOL-SCOUT.DE

Unterrichtsmaterialien in digitaler und in gedruckter Form

Auszug aus:

Lernwerkstatt: Euro

Das komplette Material finden Sie hier:

School-Scout.de



Geldwechsel



Taschengeld

Wie viel Geld haben die Kinder?



Lisa hat _____.



Einstein hat _____.



Kevin hat _____.



Sascha hat _____.



Johanna hat _____.



Anke hat _____.



Svenja hat _____.



Kathi hat _____.

Taschengeld

Wie viel Geld haben die Kinder?



Sebastian hat _____.



Thorsten hat _____.



Anna hat _____.



Julia hat _____.



Lena hat _____.



Maximilian hat _____.



Tobias hat _____.




Caroline hat _____.


Geldbeträge zerlegen

Überlege genau, mit welchen Scheinen du die Preise bezahlen kannst!

Beispiel:

$$225 \text{ €} = 200 \text{ €} + 20 \text{ €} + 5 \text{ €}$$





$$115 \text{ €} = \underline{\hspace{2cm}} + \underline{\hspace{2cm}} + \underline{\hspace{2cm}}$$

$$255 \text{ €} = \underline{\hspace{2cm}} + \underline{\hspace{2cm}} + \underline{\hspace{2cm}}$$

$$525 \text{ €} = \underline{\hspace{2cm}} + \underline{\hspace{2cm}} + \underline{\hspace{2cm}}$$

$$125 \text{ €} = \underline{\hspace{2cm}} + \underline{\hspace{2cm}} + \underline{\hspace{2cm}}$$

$$555 \text{ €} = \underline{\hspace{2cm}} + \underline{\hspace{2cm}} + \underline{\hspace{2cm}}$$

$$215 \text{ €} = \underline{\hspace{2cm}} + \underline{\hspace{2cm}} + \underline{\hspace{2cm}}$$

$$515 \text{ €} = \underline{\hspace{2cm}} + \underline{\hspace{2cm}} + \underline{\hspace{2cm}}$$

$$155 \text{ €} = \underline{\hspace{2cm}} + \underline{\hspace{2cm}} + \underline{\hspace{2cm}}$$



$$225 \text{ €} = \underline{\hspace{2cm}} + \underline{\hspace{2cm}} + \underline{\hspace{2cm}}$$



Geldbeträge zerlegen

Überlege genau, mit welchen Scheinen und Münzen du die Preise bezahlen kannst! Versuche verschiedene Möglichkeiten zu finden!

Beispiel:

$527 \text{ €} = 500 \text{ €} + 20 \text{ €} + 5 \text{ €} + 2 \text{ €}$

ODER:
$527 \text{ €} = 500 \text{ €} + 10 \text{ €} + 10 \text{ €} + 5 \text{ €} + 1 \text{ €} + 1 \text{ €}$


236 € = _____

163 € = _____

428 € = _____

537 € = _____

354 € = _____

635 € = _____

762 = _____



SCHOOL-SCOUT.DE

Unterrichtsmaterialien in digitaler und in gedruckter Form

Auszug aus:

Lernwerkstatt: Euro

Das komplette Material finden Sie hier:

School-Scout.de

