

SCHOOL-SCOUT.DE

Unterrichtsmaterialien in digitaler und in gedruckter Form

Auszug aus:

Alles verdreht (Grundschule)

Das komplette Material finden Sie hier:

School-Scout.de



Hallo liebe Schülerinnen und Schüler,


geht es euch manchmal auch so, dass ihr aus Versehen Buchstaben verdreht oder vertauscht? Das d, das b, das p und das q sehen ja eigentlich genau gleich aus, nur sind sie jeweils in eine andere Richtung gedreht und schon heißen sie anders. Auch k und h oder m und n sehen sich verflixt ähnlich. Damit ihr sie besser auseinander halten könnt, übt ihr bestimmt oft das Schreiben. Zusätzlich hilft es sehr, wenn ihr die Übungen in „Alles verdreht“ macht. Diese machen Spaß und automatisch wird euch auch das Lesen und Schreiben leichter fallen.
Also, los geht's!

Viel Spaß und Erfolg wünscht euch

Heike Kubu-Zandt

2. Um den Affen James herum gibt es neun Ankreuzkästchen. Kreuze bitte folgende Stellen an:

- am linken Ohr des Affen
- am rechten Bein von James
- über dem Affen
- von dir aus gesehen rechts unter James



Wer befindet sich, von James aus gesehen, rechts neben ihm?

Kreuze an!

- eine Ameise
- zwei Ameisen

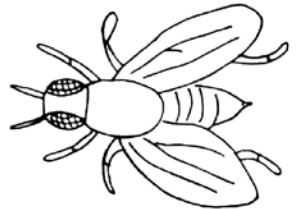
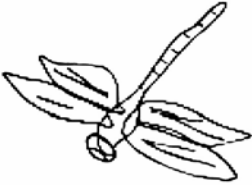
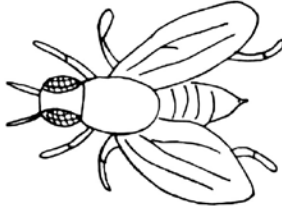
3. Zähle, wie oft du jede Insektenart findest und schreibe die Zahlen in die Kästchen!












4. Schreibe die passenden Nummern in die Kästchen bei Wuffi!

- 1 seine linke Hinterpfote
- 2 seine linke Vorderpfote
- 3 seine rechte Vorderpfote
- 4 sein linkes Ohr
- 5 sein rechtes Auge
- 6 der Knochen hinter Wuffi
- 7 der Knochen vor ihm
- 8 der fünfte Ball von links



Ein Kästchen bleibt übrig. Was ist dort zu sehen?

5. Schreibe zu jeder Maus den passenden Namen!

- Die zweite Maus von rechts heißt Mausi.
- Der Name der großen Maus ist Nager.
- Die Maus, die am höchsten steht, nennt sich Pieps.
- Zudem ist auch Fieper zu sehen.



Vervollständige die Sätze!

Pieps schaut nach _____ .

Mausi macht _____ .

Nager schaut nach _____ .

Die Mäusemutter heißt _____ .

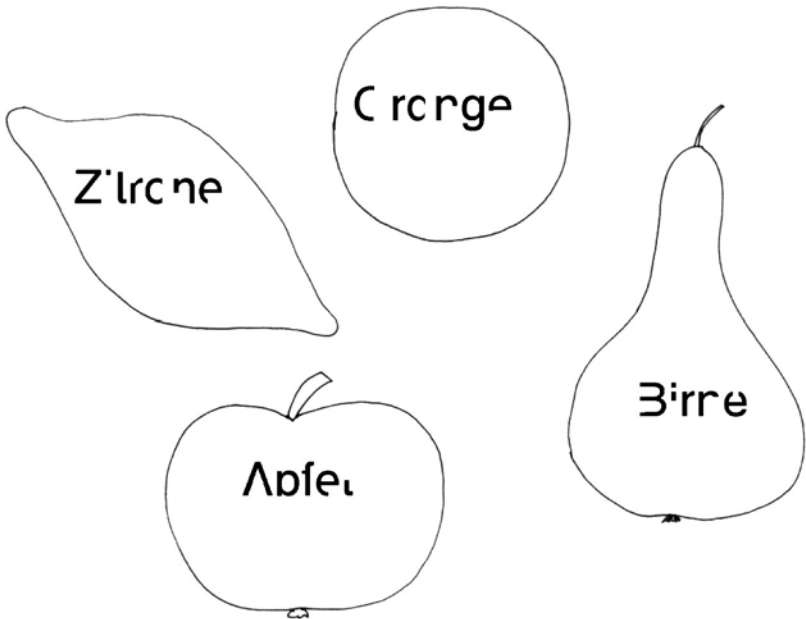
Auf dem Schwanz der Mutter turnt _____ .

Fieper steht auf _____ .


6. Finde immer zwei Schmetterlinge mit dem gleichen Muster!



7. Die Schrift auf den Obstsorten wurde zum Teil weggewischt. Ergänze sie!



8. Wie viele Mäuse haben ein Bein zu viel?



SCHOOL-SCOUT.DE

Unterrichtsmaterialien in digitaler und in gedruckter Form

Auszug aus:

Alles verdreht (Grundschule)

Das komplette Material finden Sie hier:

School-Scout.de

