



# SCHOOL-SCOUT.DE


Unterrichtsmaterialien in digitaler und in gedruckter Form

## Auszug aus:

*Die kleinen Lerndrachen - Mathematik - 3.-5. Schuljahr*

Das komplette Material finden Sie hier:

[School-Scout.de](http://School-Scout.de)



Hallo Kinder!

Hier findet ihr Aufgaben rund um das große Einmaleins. Die sind ganz schön schwierig. Aber wenn ihr sie tüchtig übt, wird euch das beim Kopfrechnen super helfen.

Und wenn ihr die Reihen gut beherrscht, macht alles Rechnen richtig Spaß.

Ihr könnt mit der Übung beginnen, zu der ihr am meisten Lust habt. Oder ihr fangt einfach vorne im Heft an.

Viel Vergnügen beim Rechnen!




 2	<b>Drachenwettbewerb</b>	Das kleine Einmaleins
 4	<b>Anne – zu Hause und in der Freizeit</b>	Rechnen mit Zehnerzahlen
 6	<b>Rund um Tims Geburtstag</b>	Die 12er-Reihe
 8	<b>Wer bastelt die schönste Maske?</b>	Die 15er-Reihe
 10	<b>Was es in der Stadt alles gibt</b>	Die 14er-Reihe
 12	<b>Im Reich der Moor-Feen</b>	Die 13er- und die 20er-Reihe
 14	<b>Bewegung macht Spaß</b>	Die 11er-Reihe
 16	<b>Hurra, der Frühling ist da!</b>	Die 16er-Reihe
 18	<b>Bald ist Ostern</b>	Die 18er-Reihe
 20	<b>Herrn Pipers Klasse</b>	Die 17er-Reihe
 22	<b>Eine Fahrradtour</b>	Die 19er-Reihe
 24	<b>Besuch im Opernhaus</b>	Gemischte Aufgaben
 26	<b>Ein Tante-Emma-Laden</b>	Rechnen mit Zehner-Einer-Zahlen
 28	<b>Auf Entdeckungsreise</b>	Die Quadratzahlen
 30	<b>Die Rechenolympiade</b>	Schwierige Textaufgaben
<b>31</b>	<b>Lösungen</b>	

## Drachenwettbewerb

Bei gutem Wind lassen die Kinder ihre Drachen steigen. Der schönste Drachen wird einen Preis bekommen. Auf jedem Drachen steht eine Reihe des kleinen Einmaleins.

- 1 Ergänze die fehlenden Zahlen in den Reihen.





2 Auf einem kleinen Hügel stehen 9 Kinder und schauen zu. Jedes von ihnen hat 3 Luftballons.

Frage: \_\_\_\_\_  
 \_\_\_\_\_

Rechnung: \_\_\_\_\_

Antwort: Zusammen haben sie \_\_\_\_\_ Luftballons.

3 Anne spielt lieber mit 3 Freunden Quartett. Sie verteilt 32 Karten.


Frage: \_\_\_\_\_  
 \_\_\_\_\_

Rechnung: \_\_\_\_\_

Antwort: Jedes Kind \_\_\_\_\_



4 Ergänze hier die fehlenden Zahlen.



## Anne – zu Hause und in der Freizeit

- 1 Annes Eltern haben eine Getränkehandlung. Ihr Vater bringt gerade 4 Kartons Orangensaft in den Laden. In jedem Karton sind 40 Tüten.

Frage: Wie viele Tüten sind es insgesamt?

Rechne so:  $4 \cdot 4 = 16$

$$4 \cdot 40 = 160$$

Insgesamt sind es \_\_\_\_\_ Tüten Orangensaft.



Beim Multiplizieren mit Zehnerzahlen hilft dir das kleine Einmaleins!



- 2 Annes Mutter fährt die Getränke aus. Sie muss noch 6 Kisten Apfelsaft aufladen. In jeder Kiste sind 20 Tüten.

Frage: \_\_\_\_\_

Rechnung: \_\_\_\_\_

Antwort: \_\_\_\_\_

- 3 Ergänze die fehlenden Zahlen in den Reihen.

5er-Reihe:	5		15			30				50
50er-Reihe:		100			250				450	

8er-Reihe:	8			32				64		
80er-Reihe:			240				560			

9er-Reihe:		18				54				90
90er-Reihe:	90				450			720		

4er-Reihe:				16				32		
40er-Reihe:			120				280			



# SCHOOL-SCOUT.DE

Unterrichtsmaterialien in digitaler und in gedruckter Form

## Auszug aus:

*Die kleinen Lerndrachen - Mathematik - 3.-5. Schuljahr*

Das komplette Material finden Sie hier:

[School-Scout.de](http://School-Scout.de)

