



SCHOOL-SCOUT.DE

Unterrichtsmaterialien in digitaler und in gedruckter Form

Auszug aus: *Österreich im Unterricht*

Das komplette Material finden Sie hier:

School-Scout.de





Titel:	Österreich
Reihe:	Arbeitsheft mit zusätzlichen Online Übungen und Erklärvideos
Bestellnummer:	82690
Kurzvorstellung:	<p>Dieses Unterrichtsmaterial führt in die Geografie Österreichs ein.</p> <p>Zu jedem Thema gibt es zusätzlich ein Erklärvideo, das für die notwendigen Inputs sorgt. Diese Inputs ermöglichen es den Lernenden, die anschließenden Übungen (Lückentext, Zuordnungsübungen, Multiple-Choice-Fragen, usw.) selbstständig zu bearbeiten. Als Hilfsmittel sind Landkarten bzw. ein Atlas notwendig.</p> <p>Dank der enthaltenen Lösungen für sämtliche Arbeitsblätter und Aufgaben können die Lernenden sich auch selbstständig kontrollieren. Das Material eignet sich somit auch zum Lernen und Üben zuhause und kann von den SchülerInnen eigenständig eingesetzt werden.</p>
Inhaltsübersicht:	<ul style="list-style-type: none">• Übungen zu den Themen:<ul style="list-style-type: none">• Bundesländer• Großlandschaften• Gebirge, Gewässer und Städte• Klima• Nationalparks• Bevölkerung• Wirtschaft und Verkehr• Onlineübungen• Erklärvideos• Lösungen

Inhaltsverzeichnis

Österreich im Überblick	4
Vorarlberg	6
Tirol.....	8
Salzburg	10
Oberösterreich.....	12
Niederösterreich	14
Wien	16
Burgenland.....	17
Steiermark.....	19
Kärnten	21
Die Alpen.....	23
Das Alpen- und Karpatenvorland.....	25
Das Granit- und Gneishochland	26
Das Wiener Becken	27
Das Vorland im Osten und Südosten.....	29
Flüsse Österreichs.....	30
Gebirge Österreichs	30
Städte in Österreich	31
Klima Österreichs	32
Nationalparks in Österreich.....	34
Bevölkerung Österreichs.....	36
Wirtschaft und Verkehr Österreichs.....	38
Wappen.....	38

Lösungsteil ab Seite 39

Abbildungen

Alle Fotos (beschriftet mit Abbildung 1 bis 17) stammen von pixabay.com

Die Wappen der Bundesländer stammen von Wikimedia Commons, Lizenz: gemeinfrei

Alle anderen Abbildungen (Landkarten und Diagramme) wurden vom Autor selbst erstellt.

Übungen mit Landkarte

Aufgabenstellung: Ordne die Länder, Städte, Gewässer, Berge usw. richtig zu!

Nachbarländer

- (E) Liechtenstein
- (I) Deutschland
- (G) Schweiz
- (L) Tirol

Lösungswort:

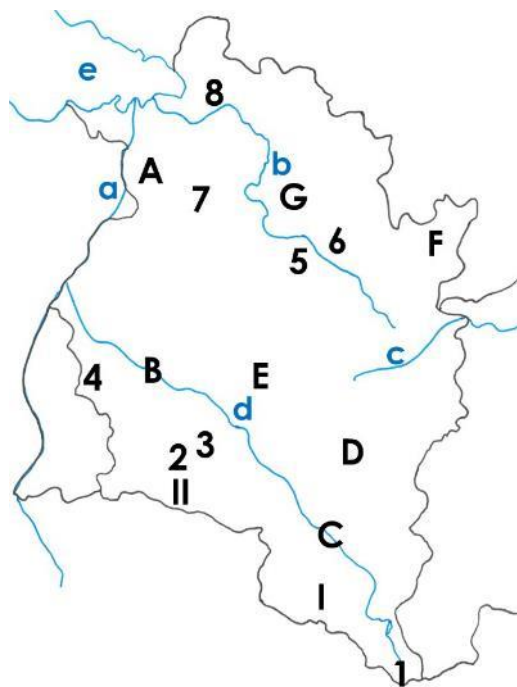
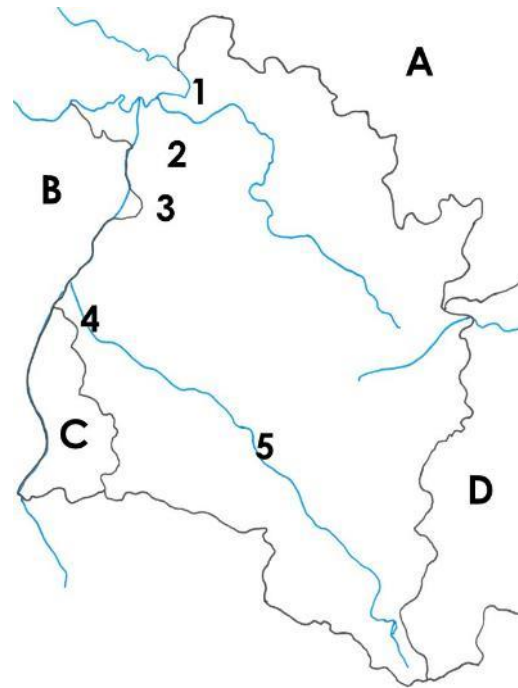
 A B C D

Städte

- (A) Dornbirn
- (C) Hohenems
- (D) Bregenz
- (H) Feldkirch
- (S) Bludenz

Lösungswort:

 1 2 3 4 5



Gewässer

- (C) Lech
- (F) Rhein
- (U) Bregenzer Ach
- (H) Ill
- (S) Bodensee

Lösungswort:

 a b c d e

Gebirge und Berge

- (B) Silvretta
- (E) Schesaplana
- (F) Zimba
- (I) Piz Buin
- (R) Rätikon
- (A) Kanisfluh
- (B) Karren
- (E) Pfänder
- (T) Drei Schwestern
- (U) Didamskopf

Lösungswort:

 I II I 2 3 4 5 6 7 8

Täler


- (A) Montafon
- (B) Rheintal
- (L) Walgau
- (U) Klostertal
- (A) kleines Walsertal
- (L) Bregenzerwald
- (W) großes Walsertal

Lösungswort:

 A B C D E F G

Hauptfluss Niederösterreichs

Wien



Aufgabenstellung: Ergänze den Lückentext mit Hilfe des Videos!

Die österreichische Hauptstadt Wien bildet ein eigenes Bundesland. Die 1,9 Millionen Einwohner leben in 23 Gemeindebezirken.

Gewässer

Der wichtigste Fluss Wiens ist die Donau. Die _____ Donau ist ein ehemaliger Arm der Donau und dient als Naherholungsgebiet. Weitere Flüsse in Wien sind der Donaukanal und der _____.

Gebirge und höchster Berg

Der höchste Berg Wiens ist der Hermannskogel. Er liegt im _____, in einem Ausläufer der Ostalpen.

Wirtschaft

Wien ist der Sitz der österreichischen Börse und Hauptsitz vieler österreichischer Konzerne. Wien gilt aufgrund der guten Beziehungen nach _____ als „Sprungbrett in den Osten“. Vor allem die Bauwerke aus der Kaiserzeit und der Ruf als _____ ziehen viele Touristen an.

Verkehr

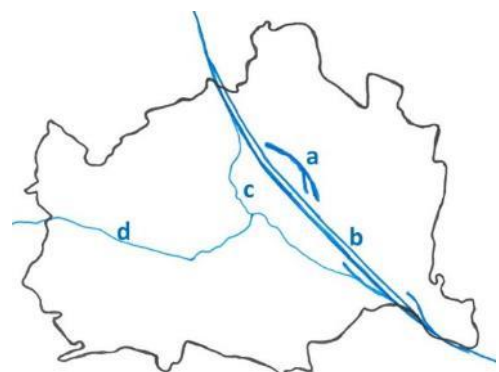
Wien hat ein sehr gut ausgebautes öffentliches Verkehrsnetz mit U-Bahnen und _____. Außerdem ist Wien ein wichtiger Eisenbahnknotenpunkt. Der Wiener Flughafen Schwechat liegt 16 km südlich des Stadtzentrums in Niederösterreich.

Lösungen: Alte | Musikstadt | Osteuropa | Straßenbahnen | Wienerwald | Wienfluss

Übungen mit Landkarte

Aufgabenstellung: Ordne die Gewässer richtig zu!

- (A) Donau
- (E) Wienfluss
- (H) alte Donau
- (S) Donaukanal



Lösungswort:
a b c d

Übungen mit Landkarte

Aufgabenstellung: Ordne die Länder, Städte, Gewässer, Berge usw. richtig zu!

Nachbarländer

- (A) Slowenien
- (C) Slowakei
- (F) Steiermark
- (H) Ungarn
- (S) Niederösterreich

Lösungswort:

A B C D E

Gewässer

- (H) Raab
- (K) Neusiedler See
- (U) Leitha

Lösungswort:

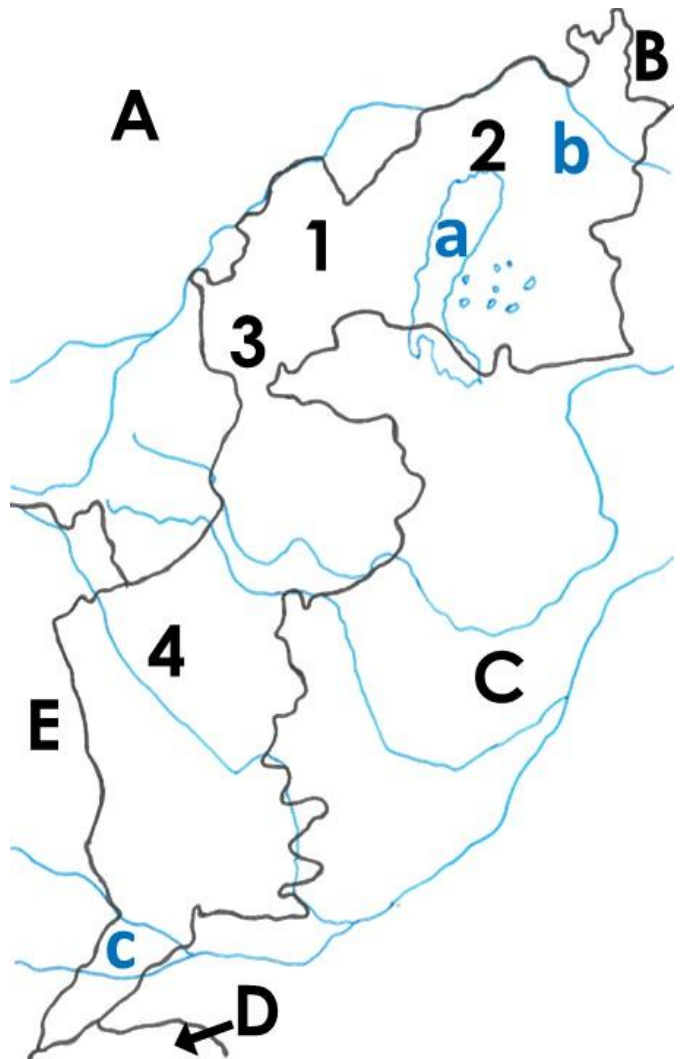
a b c

Städte

- (E) Mattersburg
- (I) Eisenstadt
- (G) Neusiedl am See
- (L) Oberwart

Lösungswort:

1 2 3 4



Rätsel:

Aufgabenstellung: Löse das Rätsel! Alle notwendigen Informationen findest du im Video. Als Lösungswort erhältst du eine Stadt, die im Norden an das Burgenland grenzt. Achtung: ö = oe

Seefestspiele finden in ... statt.

Stadt im Südburgenland

Nachbarland des Burgenlandes

Der Neusiedler See ist ein ...see.

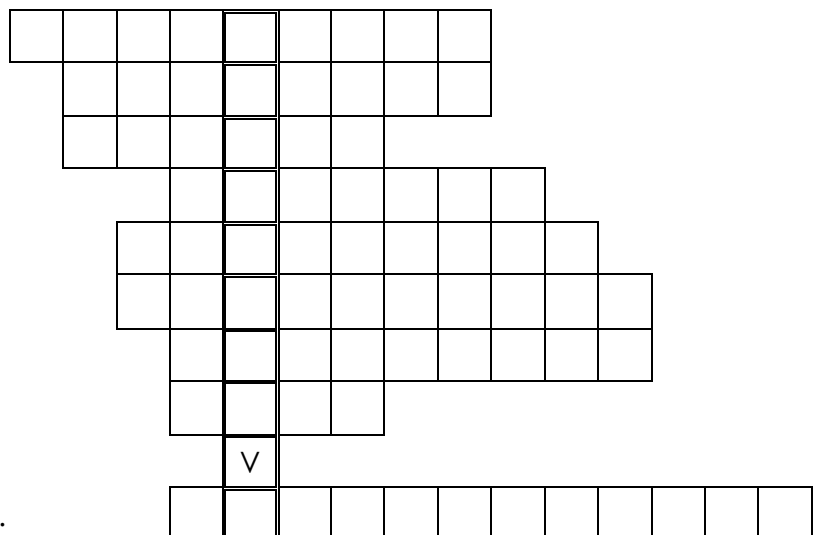
Der Boden eignet sich für ...

Hauptstadt des Burgenlandes

Nachbarland im Süden

Fluss im Süden

Das Burgenland liegt in der ... Tiefebene.



Das Alpen- und Karpatenvorland

Erklärvideo



youtu.be/qAJdAB7Vr5E
t1p.de/aut12

Onlineübungen



erklaerung-und-mehr.org/aut
t1p.de/aut00

Aufgabenstellung: Ergänze den Lückentext mit Hilfe des Videos!

Lage

Das Alpenvorland befindet sich vor allem in Oberösterreich südlich der Donau und reicht bis zu den Alpen. Das Karpatenvorland ist ein Teil Niederösterreichs und liegt nördlich der Donau.

Aufgabenstellung: Markiere das Alpen- und Karpatenvorland!



Entstehung

Das Alpen- und Karpatenvorland entstanden während der _____. Gletscher formten breite Täler und Seen.

Das Alpenvorland

Das Alpenvorland umfasst Gebiete in _____, Oberösterreich und Niederösterreich zwischen Donau und Alpen. Diese Region ist _____ besiedelt. Viele Verkehrswege führen durch das Alpenvorland. Die Böden sind sehr gut für die Landwirtschaft geeignet.

Das Karpatenvorland

Das Karpatenvorland liegt im Norden Niederösterreichs und entspricht dem westlichen _____. Die Karpaten sind ein Gebirge, das von Tschechien bis _____ reicht. Das Klima ist eher _____ und trocken. Aufgrund der Lage an der tschechischen Grenze gibt es nicht viele _____. Der fruchtbare Boden ist jedoch ideal für Landwirtschaft und bildet einen guten Untergrund für _____.

Lösungen: Arbeitsplätze | dicht | Eiszeiten | Rumänien | Salzburg | warm | Weinanbau | Weinviertel

Alpen- oder Karpatenvorland

Aufgabenstellung: Entscheide, ob die Sätze eher dem Alpen- oder dem Karpatenvorland zugeordnet werden können. Trage die Buchstaben ein. Du erhältst jeweils ein Lösungswort!

- (W) Gebiete in Salzburg, Oberösterreich und Niederösterreich
- (E) entspricht dem westlichen Weinviertel
- (S) warm und trocken
- (O) ist dicht besiedelt
- (L) viele Verkehrswege
- (E) wenig Arbeitsplätze
- (L) gute Böden für Weinanbau
- (F) zwischen Donau und Alpen

Alpenvorland:

1 2 3 4

Karpatenvorland

1 2 3 4

LÖSUNGSTEIL

Österreich im Überblick

Erklärvideo



youtu.be/I53sTY-khVg
t1p.de/aut01

Onlineübungen



erklaerung-und-mehr.org/aut
t1p.de/aut00

Aufgabenstellung: Ergänze den Lückentext mit Hilfe des Videos!

Österreich ist ein mitteleuropäischer Binnenstaat mit rund 8,9 Millionen Einwohnern auf ca. 84.000 Quadratkilometern. Das entspricht 106 Einwohnern pro Quadratkilometer.

Österreich ist seit 1995 Mitglied der Europäischen Union. Die Währung ist der Euro. Österreich ist ein demokratischer und föderaler Bundesstaat. Staatsoberhaupt ist der Bundespräsident, Regierungschef der Bundeskanzler.

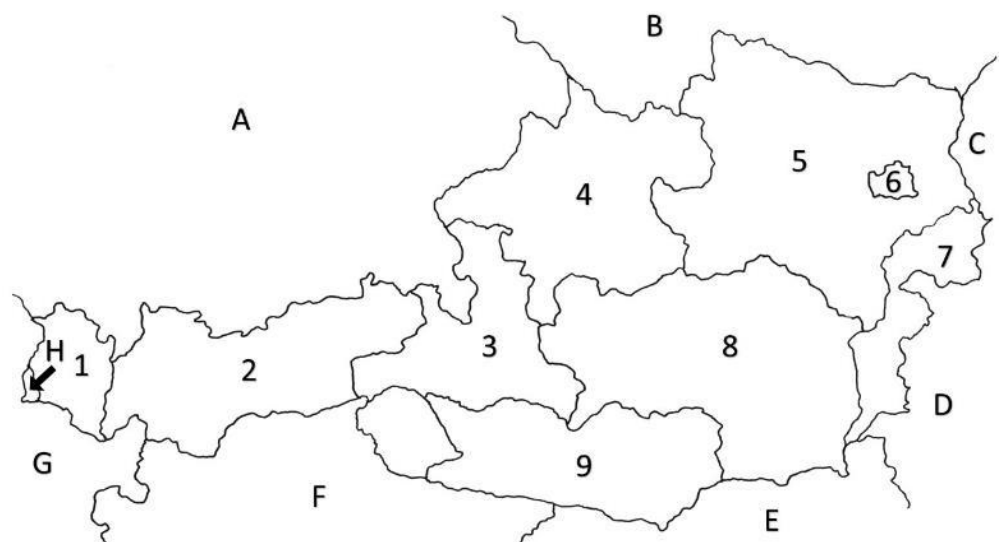
Lösungen: Binnenstaat | Bundeskanzler | Bundespräsident | demokratischer | Union

Bundesländer und Nachbarländer Österreichs

Aufgabenstellung: Ordne die Bundesländer und Nachbarländer Österreichs richtig zu!

- (G) Vorarlberg
- (O) Tirol
- (L) Salzburg
- (D) Oberösterreich
- (F) Niederösterreich
- (I) Wien
- (S) Burgenland
- (C) Steiermark
- (H) Kärnten

- (E) Deutschland
- (I) Tschechien
- (D) Slowakei
- (E) Ungarn
- (C) Slowenien
- (H) Italien
- (S) Schweiz
- (E) Liechtenstein



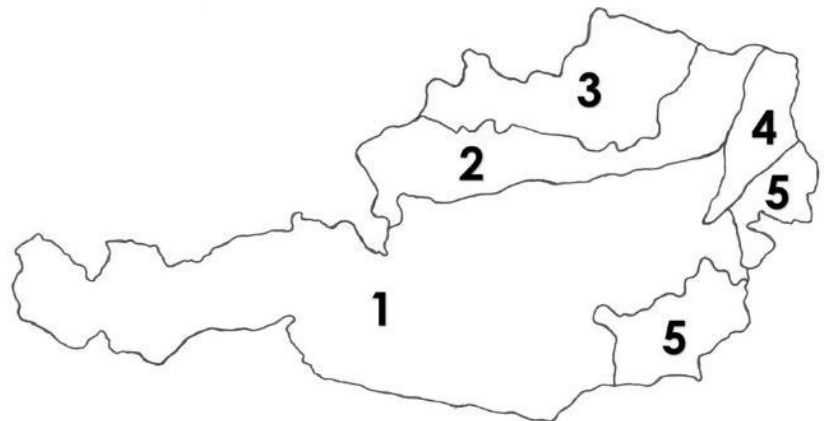
Lösungswort: G O L D F I S C H
1 2 3 4 5 6 7 8 9

Lösungswort: E I D E C H S E
A B C D E F G H

Großlandschaften Österreichs

Aufgabenstellung: Ordne die Großlandschaften Österreichs richtig zu!

- (K) Alpen
 (A) Alpen- und Karpatenvorland
 (T) Granit- und Gneishochland
 (E) Wiener Becken
 (R) Vorland im Osten und Südosten



Lösungswort: K A T E R
 1 2 3 4 5

Fragen

Aufgabenstellung: Beantworte die nachfolgenden Fragen! Die Lösung findest du mit Hilfe der beiden Landkarten (Bundesländer und Nachbarländer, Großlandschaften)!

1. Welches Bundesland grenzt an die meisten anderen Bundesländer?

- (K) Steiermark** (H) Tirol (U) Niederösterreich

2. Wie heißt das südlichste Bundesland?

- (X) Burgenland (G) Salzburg **(A) Kärnten**

3. An welches Nachbarland grenzen gleich vier Bundesländer?

- (N) Deutschland** (S) Tschechien (A) Schweiz

4. Welches Bundesland ist flächenmäßig das kleinste?

- (C) Vorarlberg **(I) Wien** (F) Burgenland

5. Wie heißt das westlichste Bundesland?

- (F) Tirol **(N) Vorarlberg** (M) Salzburg

6. Das Wiener Becken liegt in Wien und ...

- (C) Niederösterreich** (F) Oberösterreich (R) dem Burgenland

7. Das Granit- und Gneishochland liegt in Niederösterreich und ...

- (W) Salzburg **(H) Oberösterreich** (D) der Steiermark

8. Welche Großlandschaft umfasst die meisten Bundesländer?

- (E) Alpen** (T) Alpen- und Karpatenvorland (R) Vorland im Osten und Südosten

9. Welches Bundesland grenzt an kein einziges Nachbarland?

- (V) Salzburg (A) Steiermark **(N) Wien**

Lösungswort: K A N I N C H E N
 1 2 3 4 5 6 7 8 9



SCHOOL-SCOUT.DE

Unterrichtsmaterialien in digitaler und in gedruckter Form

Auszug aus: *Österreich im Unterricht*

Das komplette Material finden Sie hier:

School-Scout.de

