



SCHOOL-SCOUT.DE

Unterrichtsmaterialien in digitaler und in gedruckter Form

Auszug aus:

Mathematische Denkaufgaben 1. Schuljahr

Das komplette Material finden Sie hier:

School-Scout.de



INHALTSVERZEICHNIS



Vorwort


1/2	Fässer und Säcke / Tassen und Teller
3/4	Zähle zusammen / Zähle weg
5/6	Rechne mit Früchten / Rechne mit Tieren
7/8	Dackel Waldi / Elefant Poldi
9/10	Vier Wörter / Drei Wörter
11/12	Fische, Fische, Fische / Runde und lange Fische
13/14	Viele Resultate / Viele Zeichen
15/16	Drei Brüder / Vier Knaben
17/18	Acht Buchstaben / Ein Wort
19/20	Zahlenfresser Emil / Zahlenfresser Paul
21/22	Farbige Autos / Bunte Stifte
23/24	Kampf um den Apfel / Feuerwehr im Einsatz
25/26	Hausnummern / Hotelzimmer
27/28	Weihnachtsgeschenke / Ostergeschenke
29/30	Treppauf und treppab / Vorwärts und rückwärts
31/32	Quadrat und Rechteck / Rechteck und Quadrat
33/34	Kinder und Erwachsene / Knaben und Mädchen
35/36	Fussball spielen / Handball spielen
37/38	Viele Tiere / Viele Früchte
39/40	Dreimal würfeln / Viermal würfeln
41/42	Falsche Rechnung / Was ist hier falsch?
43/44	Zahlenwege / Zahlenstrassen
45/46	Seifenblasen / Bilderreihen
47/48	Sichtbare Punkte / Unsichtbare Punkte
49/50	Schwieriger Weg / Zehn Werkzeuge
51/52	Sonnen / Blumen

Die Lösungen stehen jeweils auf der Rückseite.


1 Fässer und Säcke




Auf den Waagen sind Fässer, Kisten und Säcke.



Die Kiste ist gleich schwer wie 8 Säcke.



Die Kiste ist gleich schwer wie 4 Fässer.



8 Säcke sind gleich schwer wie ___ Fässer.


Wie viele Säcke sind gleich schwer wie 2 Fässer?

___ Säcke sind gleich schwer wie 2 Fässer.


2 Tassen und Teller




Auf den Waagen sind Schüsseln, Tassen und Teller.



Die Schüssel ist gleich schwer wie 2 Teller.



Die Schüssel ist gleich schwer wie 4 Tassen.



2 Teller sind gleich schwer wie ___ Tassen.

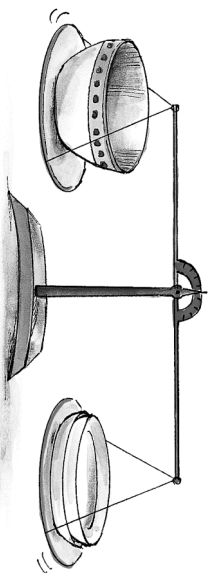
Wie viele Teller sind gleich schwer wie 8 Tassen?

___ Teller sind gleich schwer wie 8 Tassen.

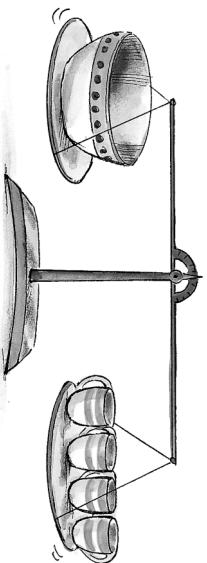
L 2 Tassen und Teller




Die drei Waagen sind im Gleichgewicht.



Links steht 1 Schüssel und rechts stehen 2 Teller.
Die Schüssel ist gleich schwer wie 2 Teller.



Links steht 1 Schüssel und rechts stehen 4 Tassen.
Die Schüssel ist gleich schwer wie 4 Tassen.

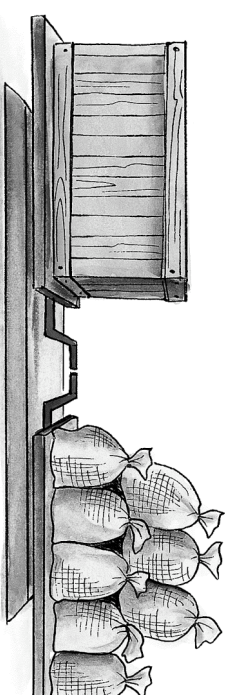


Links stehen 2 Teller und rechts stehen 4 Tassen.
2 Teller $\times 2 = 4$ Teller 4 Tassen $\times 2 = 8$ Tassen
4 Teller sind gleich schwer wie 8 Tassen.


L 1 Fässer und Säcke




Die drei Waagen sind im Gleichgewicht.



Links steht 1 Kiste und rechts stehen 8 Säcke.
Die Kiste ist gleich schwer wie 8 Säcke.



Links steht 1 Kiste und rechts stehen 4 Fässer.
Die Kiste ist gleich schwer wie 4 Fässer.



Links stehen 8 Säcke und rechts stehen 4 Fässer.
8 Säcke : 2 = 4 Säcke 4 Fässer : 2 = 2 Fässer
4 Säcke sind gleich schwer wie 2 Fässer.



SCHOOL-SCOUT.DE

Unterrichtsmaterialien in digitaler und in gedruckter Form

Auszug aus:

Mathematische Denkaufgaben 1. Schuljahr

Das komplette Material finden Sie hier:

School-Scout.de

