

SCHOOL-SCOUT.DE

Unterrichtsmaterialien in digitaler und in gedruckter Form

Auszug aus:

Zahl des Tages / der Woche

Das komplette Material finden Sie hier:

School-Scout.de



Die Zahl des Tages:

Ist die Zahl gerade oder ungerade?

Male die Zahl im Zwanzigerfeld aus.

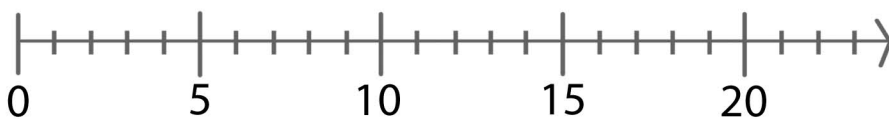
○	○	○	○	○	○	○	○	○	○
○	○	○	○	○	○	○	○	○	○

Welches sind ihre Nachbarzahlen?

Vorgänger	Zahl	Nachfolger

Schreibe die Zahl als Wort auf:

Markiere die Zahl auf dem Zahlenstrahl.



Schreibe die Zahl in die Stellenwerttafel:

Z	E

___ Zehner ___ Einer

___ Z + ___ E = ___

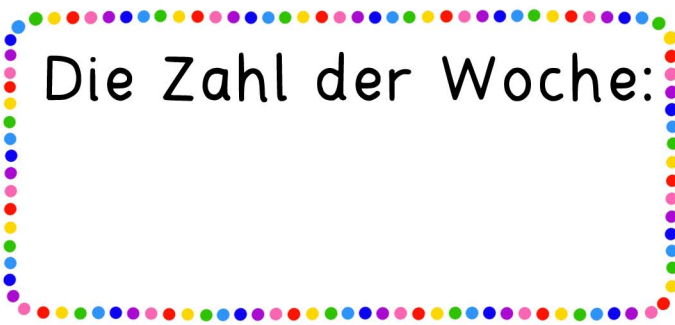
Male ... zur Zahl.

... das Fingerbild

... das Würfelbild

... die Strichliste

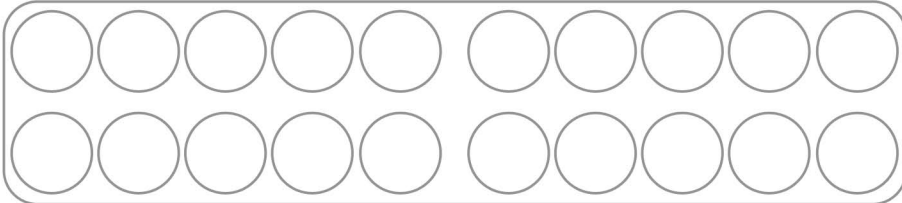
... etwas, das zur Zahl passt.



Die Zahl der Woche:

Ist die Zahl gerade oder ungerade?

Male die Zahl im Zwanzigerfeld aus.



Male ... zur Zahl.

... das Fingerbild

Welches sind ihre Nachbarzahlen?

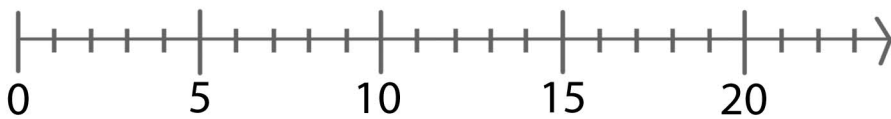
Vorgänger	Zahl	Nachfolger

... das Würfelbild

Schreibe die Zahl als Wort auf:

... die Strichliste

Markiere die Zahl auf dem Zahlenstrahl.



Schreibe die Zahl in die Stellenwerttafel:

Z	E

___ Zehner ___ Einer

___ Z + ___ E = ___

... etwas, das zur Zahl passt.



Die Zahl
des Tages



Die Zahl des Tages:

1



Die Zahl des Tages:

2

Die Zahl des Tages:

3

Die Zahl des Tages:

4

Die Zahl des Tages:

5

SCHOOL-SCOUT.DE

Unterrichtsmaterialien in digitaler und in gedruckter Form

Auszug aus:

Zahl des Tages / der Woche

Das komplette Material finden Sie hier:

School-Scout.de

