

SCHOOL-SCOUT.DE

Unterrichtsmaterialien in digitaler und in gedruckter Form

Auszug aus:

Kopfrechnen in Freiarbeit – Übungen zum kleinen 1:1

Das komplette Material finden Sie hier:

School-Scout.de



Partnerhefte kleines 1:1

Inhaltsverzeichnis

Vorwort	5
Faltplan zum Aufgabenbüchlein	6
Teilaufgaben zum Einmaleins der 2 - Heft 1	7
Teilaufgaben zum Einmaleins der 2 - Heft 2	8
Teilaufgaben zum Einmaleins der 2 - Heft 3	9
Teilaufgaben zum Einmaleins der 2 - Heft 4	10
Teilaufgaben zum Einmaleins der 3 - Heft 1	11
Teilaufgaben zum Einmaleins der 3 - Heft 2	12
Teilaufgaben zum Einmaleins der 3 - Heft 3	13
Teilaufgaben zum Einmaleins der 3 - Heft 4	14
Teilaufgaben zum Einmaleins der 4 - Heft 1	15
Teilaufgaben zum Einmaleins der 4 - Heft 2	16
Teilaufgaben zum Einmaleins der 4 - Heft 3	17
Teilaufgaben zum Einmaleins der 4 - Heft 4	18
Teilaufgaben zum Einmaleins der 5 - Heft 1	19
Teilaufgaben zum Einmaleins der 5 - Heft 2	20
Teilaufgaben zum Einmaleins der 5 - Heft 3	21
Teilaufgaben zum Einmaleins der 5 - Heft 4	22
Teilaufgaben zum Einmaleins der 6 - Heft 1	23
Teilaufgaben zum Einmaleins der 6 - Heft 2	24
Teilaufgaben zum Einmaleins der 6 - Heft 3	25
Teilaufgaben zum Einmaleins der 6 - Heft 4	26
Teilaufgaben zum Einmaleins der 7 - Heft 1	27
Teilaufgaben zum Einmaleins der 7 - Heft 2	28
Teilaufgaben zum Einmaleins der 7 - Heft 3	29
Teilaufgaben zum Einmaleins der 7 - Heft 4	30
Teilaufgaben zum Einmaleins der 8 - Heft 1	31
Teilaufgaben zum Einmaleins der 8 - Heft 2	32
Teilaufgaben zum Einmaleins der 8 - Heft 3	33
Teilaufgaben zum Einmaleins der 8 - Heft 4	34
Teilaufgaben zum Einmaleins der 9 - Heft 1	35
Teilaufgaben zum Einmaleins der 9 - Heft 2	36
Teilaufgaben zum Einmaleins der 9 - Heft 3	37
Teilaufgaben zum Einmaleins der 9 - Heft 4	38
Gemischte Teilaufgaben 1 - Heft 1	39
Gemischte Teilaufgaben 1 - Heft 2	40
Gemischte Teilaufgaben 1 - Heft 3	41
Gemischte Teilaufgaben 1 - Heft 4	42
Gemischte Teilaufgaben 2 - Heft 1	43
Gemischte Teilaufgaben 2 - Heft 2	44
Gemischte Teilaufgaben 2 - Heft 3	45
Gemischte Teilaufgaben 2 - Heft 4	46

Partnerhefte kleines 1:1

Inhalt / Vorwort

Zielgruppe

Grundschule: 2. Klasse - 3. Klasse

Förderschule: 3. Klasse - 6. Klasse

Förderschwerpunkt

Mathematisches Denktraining

Aufgabe

Die Kinder stellen sich ihre Partnerhefte selbst her. Jedes Heft enthält jeweils zwei Aufgabenblöcke mit zehn bis zwölf Einzelaufgaben. Jeweils zwei Kinder fragen sich nacheinander ab, indem das erste Kind Einzelaufgaben des Heftteils A vorliest und das zweite Kind sie mündlich beantwortet. Anschließend wird dann gewechselt, indem das zweite Kind die Aufgaben aus Heftteil B vorliest.

Alternative

Jedes der beiden Kinder hat das gleiche Partnerheft zur Hand. Sie fragen sich gegenseitig ab, indem Kind 1 den Heftteil A verwendet und Kind 2 den Heftteil B. Anschließend werden die Heftteile gewechselt: Kind 1 liest dann die Aufgaben aus Heftteil B vor und Kind 2 die aus Heftteil A.

Mathematischer Inhalt

Die Übungsvorlagen enthalten Kopfrechenaufgaben zum kleinen 1:1 in unterschiedlichen Aufgabenformen.

Nutzen

Die Kinder stärken ihre mathematische Denk- und Kombinationsfähigkeit sowie ihre soziale Kompetenz.

Materialumfang

1 Informationsblatt,

1 Faltpfad zur Herstellung der Partnerhefte,

40 Partnerhefte mit integrierten Lösungen

Faltpfad für die Partnerhefte

Den detaillierten Faltpfad für die Partnerhefte entnehmen Sie bitte der folgenden Seite.

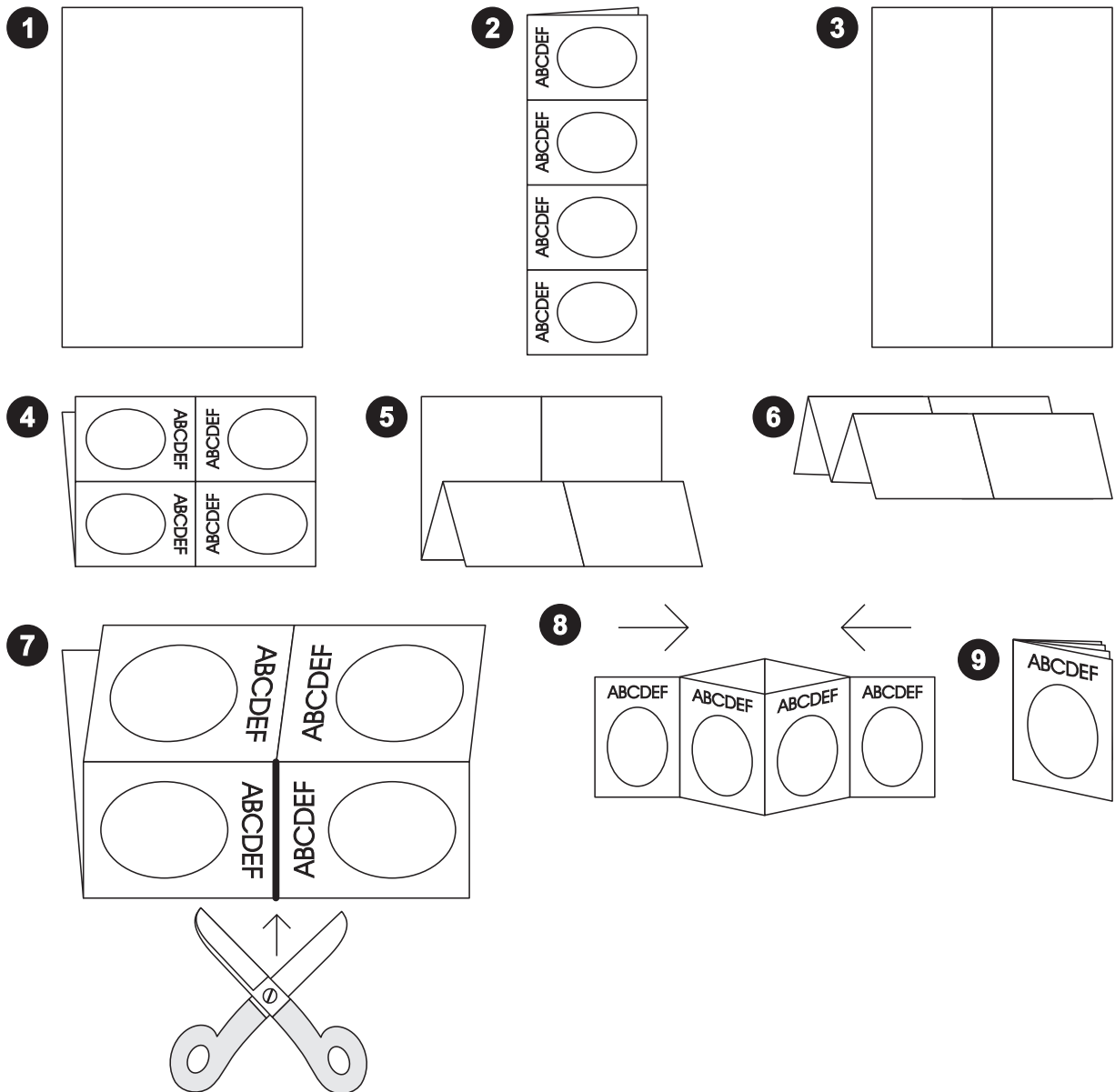
A	4 geteilt durch 2 ist wie viel?	2
B	16 geteilt durch 2 ist wie viel?	8
C	8 geteilt durch 2 ist wie viel?	4
D	20 geteilt durch 2 ist wie viel?	10

1a

Partnerhefte kleines 1:1


Faltplan für die Aufgabenbüchlein

Die bedruckte Seite des Blattes wird auf den Tisch gelegt (1). Das Blatt wird einmal längs gefaltet (2), dann wieder aufgeklappt (3) und einmal quer gefaltet (4). Anschließend wird das Blatt zweimal an der Rückseite quer gefaltet (5 und 6). Danach wird mit einer Schere ein Schnitt von genau einer Feldbreite ausgeführt (7). Schließlich wird das Blatt an dieser Schnittkante auseinander gebogen, zusammengeschoben (8) und die einzelnen Seiten zu einem Aufgabenbüchlein umgeklappt (9).



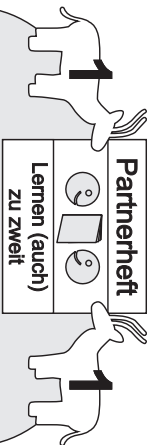
A

Lies deinem Partner / deiner Partnerin die elf Aufgaben vor. Drehe anschließend richtig sind. Drehe ihre Antworten richtig sind. Drehe anschließend richtig sind. Drehe anschließend richtig sind. Drehe anschließend richtig sind. Drehe anschließend richtig sind. Drehe anschließend richtig sind. Drehe anschließend richtig sind. Drehe anschließend richtig sind. Drehe anschließend richtig sind. Drehe anschließend richtig sind.



A	4 geteilt durch 2 ist wie viel?	2
B	16 geteilt durch 2 ist wie viel?	8
C	8 geteilt durch 2 ist wie viel?	4
D	20 geteilt durch 2 ist wie viel?	10

1a



Teilaufgaben zum Einmaleins der 2 Heft 1

Lies deinem Partner / deiner Partnerin die elf Aufgaben auf den folgenden drei Seiten vor und überprüfe, ob seine / ihre Antworten richtig sind. Drehe anschließend das Heft um und lass dir dann von deinem Partner / deiner Partnerin die anderen elf Aufgaben vorlesen.

B

E	12 geteilt durch 2 ist wie viel?	6
F	0 geteilt durch 2 ist wie viel?	0
G	2 geteilt durch 2 ist wie viel?	1
H	18 geteilt durch 2 ist wie viel?	9

2a

A	0 geteilt durch 2 ist wie viel?	0
B	8 geteilt durch 2 ist wie viel?	4
C	4 geteilt durch 2 ist wie viel?	2
D	6 geteilt durch 2 ist wie viel?	3

1b

E	16 geteilt durch 2 ist wie viel?	8
F	12 geteilt durch 2 ist wie viel?	6
G	18 geteilt durch 2 ist wie viel?	9
H	2 geteilt durch 2 ist wie viel?	1

2b

I	14 geteilt durch 2 ist wie viel?	7
J	10 geteilt durch 2 ist wie viel?	5
K	6 geteilt durch 2 ist wie viel?	3

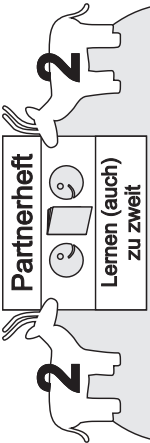
Ende

3a

q3	5	16
	1	12
	10	18


A

Lies deinem Partner / deiner Partnerin die anderen elf Aufgaben vor.
 Du bist der Partner / die Partnerin der anderen elf Aufgaben.
 Drehe die Aufgabenblätter um und lasse die Partnerin / den Partner die Aufgaben vorlesen.
 Drehe die Aufgabenblätter um und lasse die Partnerin / den Partner die Aufgaben vorlesen.
 Drehe die Aufgabenblätter um und lasse die Partnerin / den Partner die Aufgaben vorlesen.



A Wie viel ist 4 geteilt durch 2?	2
B Wie viel ist 12 geteilt durch 2?	6
C Wie viel ist 8 geteilt durch 2?	4
D Wie viel ist 18 geteilt durch 2?	9

1a



Teilaufgaben zum Einmaleins der 2 Heft 2
 Lies deinem Partner / deiner Partnerin die elf Aufgaben auf den folgenden drei Seiten vor und überprüfe, ob seine / ihre Antworten richtig sind. Drehe anschließend das Heft um und lass dir dann von deinem Partner / deiner Partnerin die anderen elf Aufgaben vorlesen.

B

E Wie viel ist 2 geteilt durch 2?	1
F wie viel ist 16 geteilt durch 2?	8
G Wie viel ist 0 geteilt durch 2?	0
H Wie viel ist 10 geteilt durch 2?	5

2a

A Wie viel ist 6 geteilt durch 2?	3
B Wie viel ist 10 geteilt durch 2?	5
C Wie viel ist 0 geteilt durch 2?	0
D Wie viel ist 16 geteilt durch 2?	8

1b

E Wie viel ist 4 geteilt durch 2?	2
F Wie viel ist 20 geteilt durch 2?	10
G Wie viel ist 8 geteilt durch 2?	4
H Wie viel ist 12 geteilt durch 2?	6

2b

I Wie viel ist 6 geteilt durch 2?	3
J Wie viel ist 14 geteilt durch 2?	7
K Wie viel ist 20 geteilt durch 2?	10

3a

6	?	2	hcrnp	8	1	tsi	K
4	?	2	hcrnp	6	1	tsi	J
1	?	2	hcrnp	2	2	tsi	I

3c

SCHOOL-SCOUT.DE

Unterrichtsmaterialien in digitaler und in gedruckter Form

Auszug aus:

Kopfrechnen in Freiarbeit – Übungen zum kleinen 1:1

Das komplette Material finden Sie hier:

School-Scout.de

