



SCHOOL-SCOUT.DE

Unterrichtsmaterialien in digitaler und in gedruckter Form

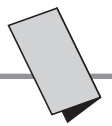
Auszug aus:

Mathematik-Klapptests für die 4. Klasse

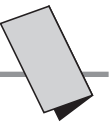
Das komplette Material finden Sie hier:

School-Scout.de





Stellenwerte I	1	Multiplikationsgitter II	28
Stellenwerte II	2	Schriftliches Multiplizieren I	29
Zahlen am Zahlenstrahl I	3	Schriftliches Multiplizieren II	30
Zahlen am Zahlenstrahl II	4	Division mit Rest I	31
Nachbartausender I	5	Division mit Rest II	32
Nachbartausender II	6	Schriftliches Dividieren I	33
Nachbarzehntausender I	7	Schriftliches Dividieren II	34
Nachbarzehntausender II	8	Lösungsworträtsel Division I	35
Runden I	9	Lösungsworträtsel Division II	36
Runden II	10	Lösungsworträtsel Multiplikation und Addition I	37
Ordnen von Zahlen I	11	Lösungsworträtsel Multiplikation und Addition II	38
Ordnen von Zahlen II	12	Distributivgesetz I	39
Addition in der Tabelle I	13	Distributivgesetz II	40
Addition in der Tabelle II	14	Längenmaße I	41
Schriftliches Addieren I	15	Längenmaße II	42
Schriftliches Addieren II	16	Hohlmaße I	43
Schriftliches Addieren III	17	Hohlmaße II	44
Schriftliches Addieren IV	18	Gewichte I	45
Subtraktion in der Tabelle I	19	Gewichte II	46
Subtraktion in der Tabelle II	20	Zeiten I	47
Schriftliches Subtrahieren I	21	Zeiten II	48
Schriftliches Subtrahieren II	22	Römische Zahlen I	49
Schriftliches Subtrahieren III	23	Römische Zahlen II	50
Schriftliches Subtrahieren IV	24	Zirkel und Geodreieck I	51
Rechenturm I	25	Zirkel und Geodreieck II	52
Rechenturm II	26	Zirkel und Geodreieck III	53
Multiplikationsgitter I	27		



Falte zuerst das Blatt entlang der Linie und bearbeite dann die Aufgaben.
Wenn du alle Ergebnisse eingetragen hast, vergleiche sie. Für jede richtig gelöste Zeile erhältst du einen Punkt.

1 Schreibe die Zahlen mit ihren Stufenzahlen auf.

a) 2 111; 101 189; 250 631

M	HT	ZT	T	H	Z	E

b) 8065013; 2080; 3350070

M	HT	ZT	T	H	Z	E

2 Lies die folgenden Zahlen und trage sie in die Stellenwerttafel ein.

a) 258312

b) 3106721

c) 4929813

M	HT	ZT	T	H	Z	E

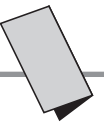
M	HT	ZT	T	H	Z	E
			2	1	1	1
	1	0	1	1	8	9
	2	5	0	6	3	1

M	HT	ZT	T	H	Z	E
8	0	6	5	0	1	3
			2	0	8	0
3	3	5	0	0	7	0



M	HT	ZT	T	H	Z	E
	2	5	8	3	1	2
3	1	0	6	7	2	1
4	9	2	9	8	1	3

Ergebnis: / 9 P.



Falte zuerst das Blatt entlang der Linie und bearbeite dann die Aufgaben.
Wenn du alle Ergebnisse eingetragen hast, vergleiche sie. Für jede richtig gelöste Zeile erhältst du einen Punkt.

1 Schreibe die Zahlen mit ihren Stufenzahlen auf.

a) 122 111; 910 189; 1 250 655

M	HT	ZT	T	H	Z	E

b) 8 789 238; 5 132 080; 925 070

M	HT	ZT	T	H	Z	E

2 Lies die folgenden Zahlen und trage sie in die Stellenwerttafel ein.

a) 5 258 312

b) 3 006 766

c) 6 999 971

M	HT	ZT	T	H	Z	E

M	HT	ZT	T	H	Z	E
	1	2	2	1	1	1
	9	1	0	1	8	9
1	2	5	0	6	5	5

M	HT	ZT	T	H	Z	E
8	7	8	9	2	3	8
5	1	3	2	0	8	0
	9	2	5	0	7	0



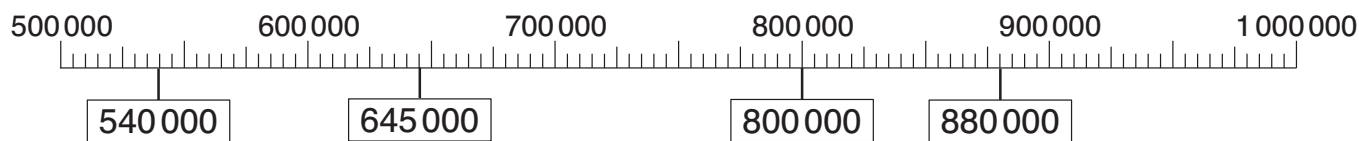
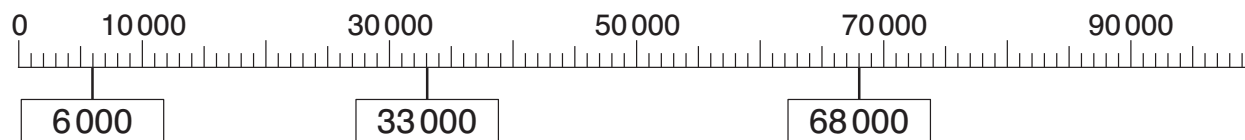
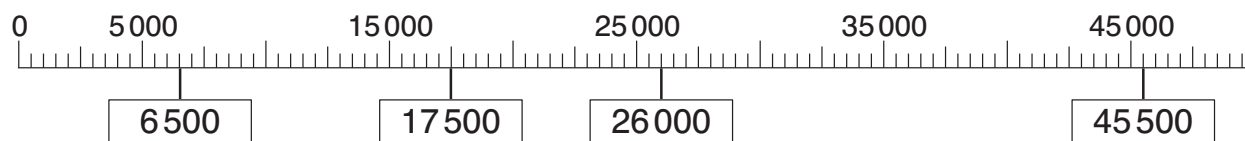
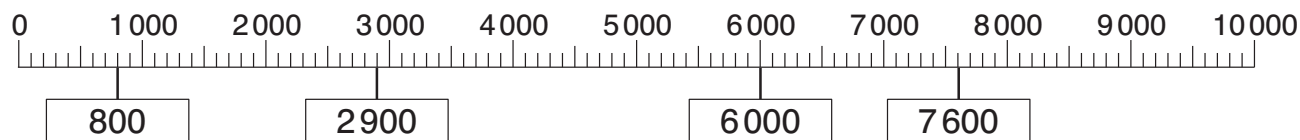
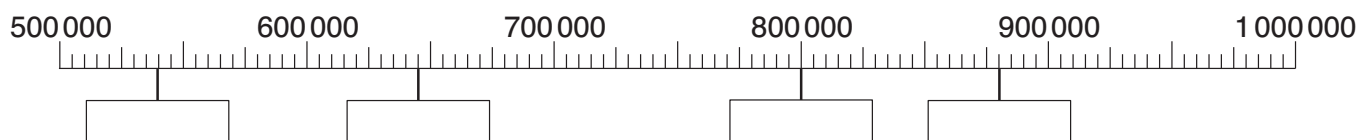
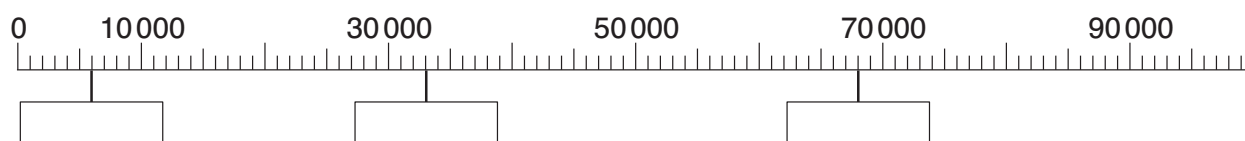
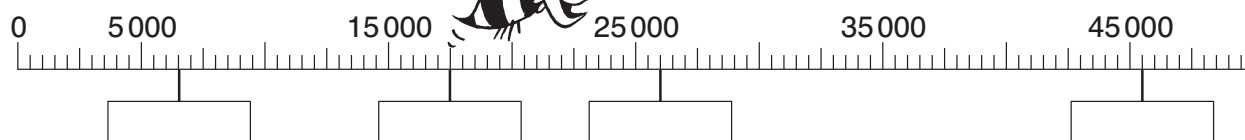
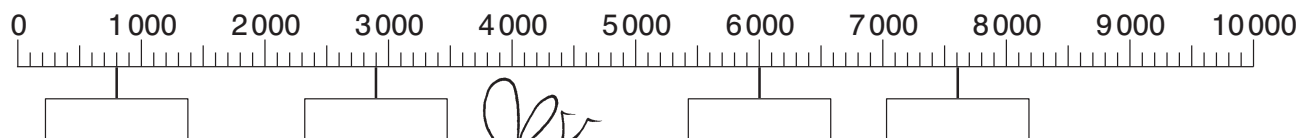
M	HT	ZT	T	H	Z	E
5	2	5	8	3	1	2
3	0	0	6	7	6	6
6	9	9	9	9	7	1

Ergebnis: / 9 P.

Zahlen am Zahlenstrahl I

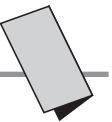


Falte zuerst das Blatt entlang der Linie und trage danach die fehlenden Zahlen ein. Wenn du alle Ergebnisse eingetragen hast, vergleiche sie. Für jede richtige Lösung erhältst du einen Punkt.

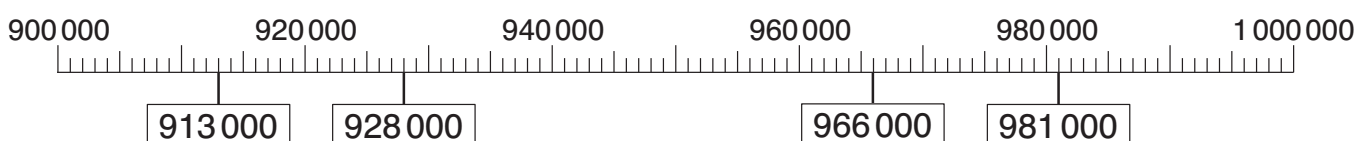
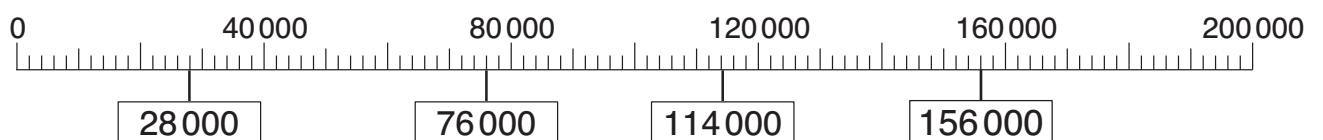
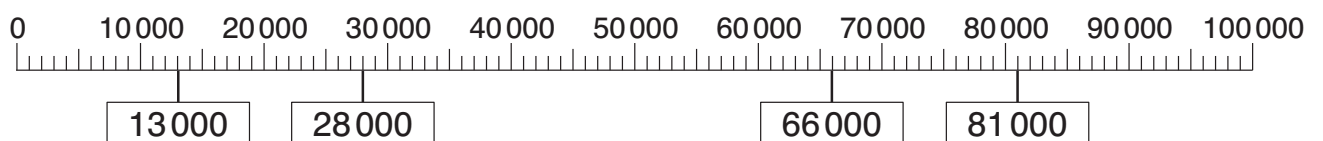
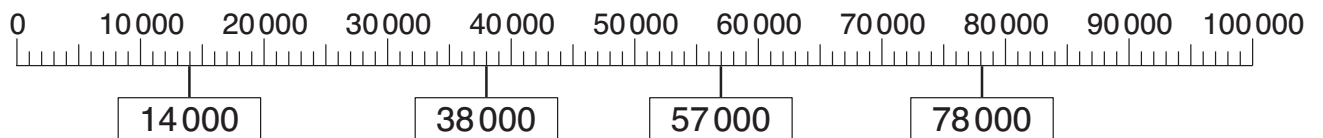
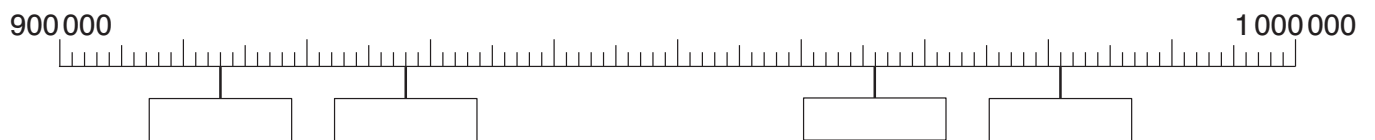
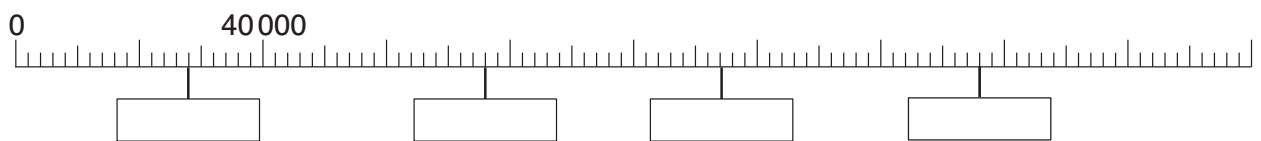
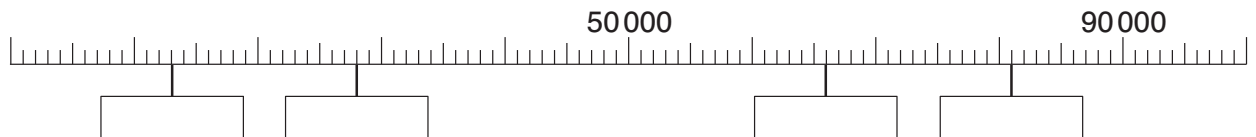
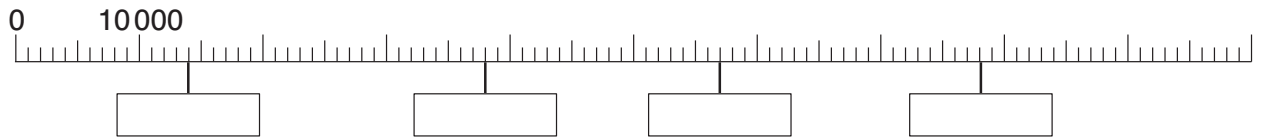


Ergebnis: / 15 P.

Zahlen am Zahlenstrahl II



Falte zuerst das Blatt entlang der Linie und trage danach die fehlenden Zahlen ein. Wenn du alle Ergebnisse eingetragen hast, vergleiche sie. Für jede richtige Lösung, die du in ein Kästchen einträgst, erhältst du einen Punkt.



Ergebnis: / 16 P.



SCHOOL-SCOUT.DE

Unterrichtsmaterialien in digitaler und in gedruckter Form

Auszug aus:

Mathematik-Klapptests für die 4. Klasse

Das komplette Material finden Sie hier:

School-Scout.de

