



**SCHOOL-SCOUT.DE**

Unterrichtsmaterialien in digitaler und in gedruckter Form

**Auszug aus:**

*Geschichtstest Grundlagen des Mittelalters und das Reich der  
Franken*

Das komplette Material finden Sie hier:

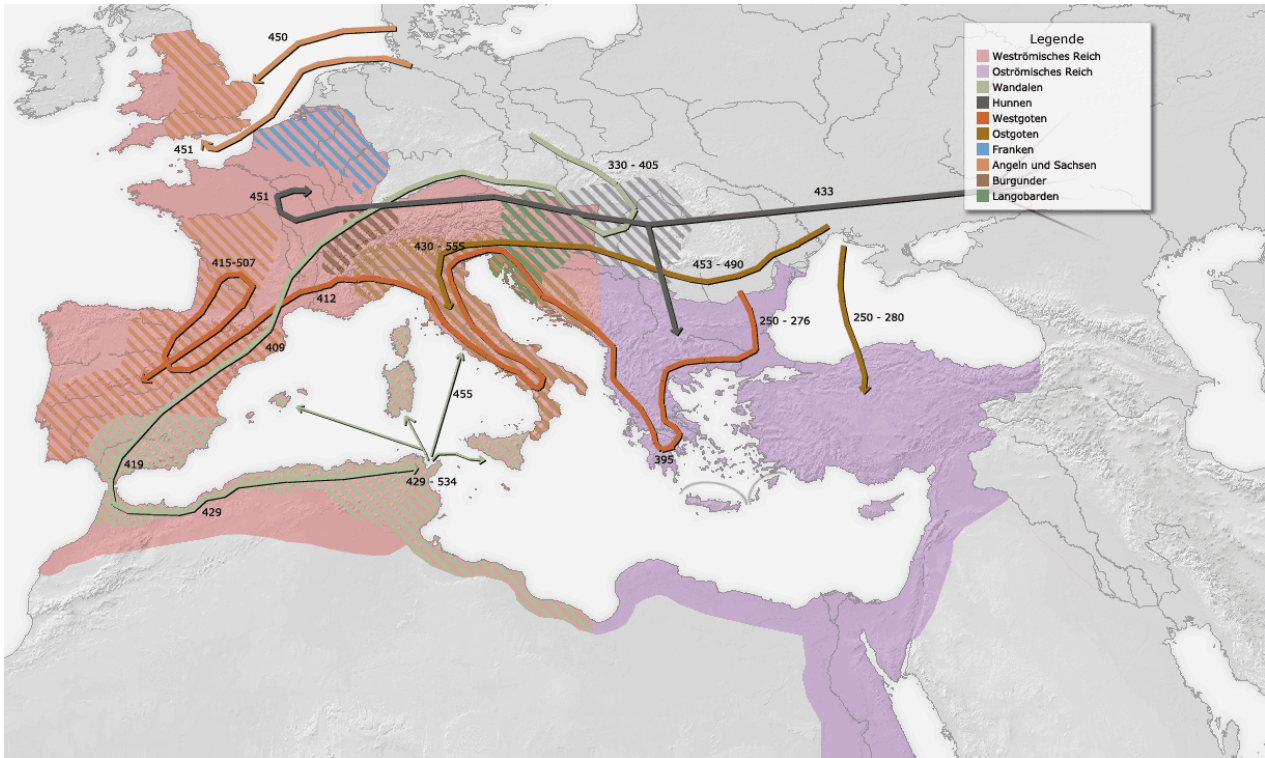
[School-Scout.de](http://School-Scout.de)



## Aufgaben

### DIE VÖLKERWANDERUNG DER GERMANEN

1. Nenne einige Gründe für die Völkerwanderung der Germanen.
2. Ergänze mithilfe von M1 die Tabelle unten.



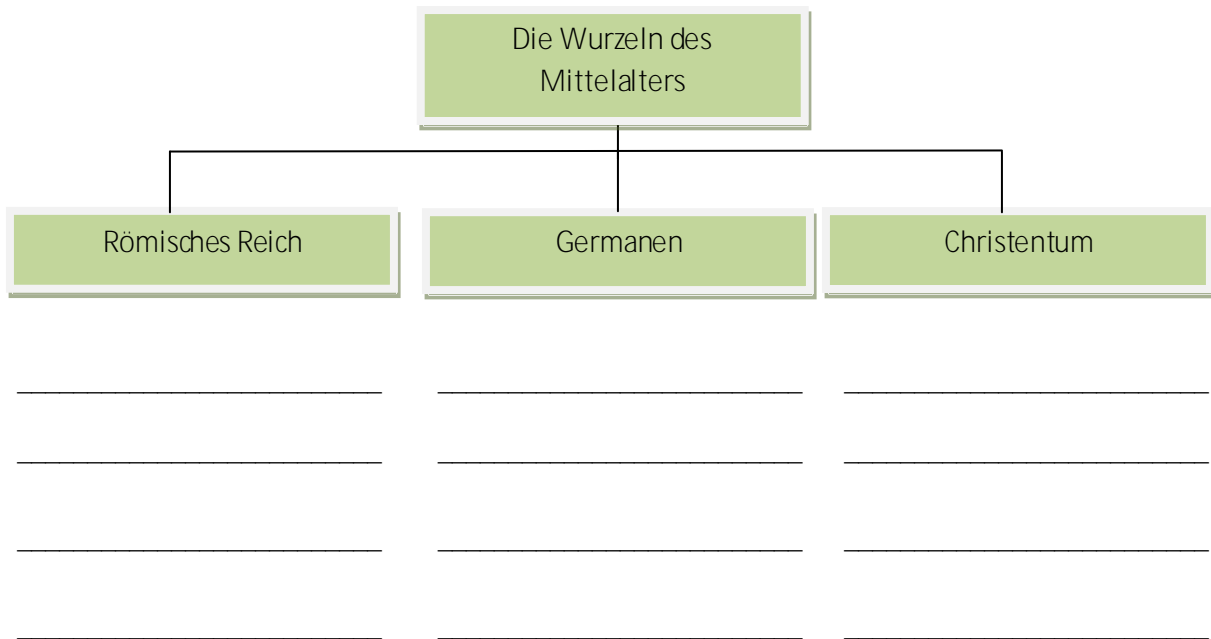
M1 Karte Europas mit Siedlungsräumen und Stammesbewegungen zur Völkerwanderungszeit  
(commons.wikimedia.org)

Volk	Herkunft	Wanderweg	neuer Siedlungsraum
Westgoten			
Ostgoten			
Franken			

3. Welche Rolle spielte die Völkerwanderung bei der Auflösung des Römischen Reiches?

DIE GRUNDLAGEN DES MITTELALTERS – RÖMISCHES REICH, GERMANEN, CHRISTENTUM

4. Wurzeln des Mittelalters. Trage die Begriffe an die richtige Stelle in der Übersicht ein.



Staatsreligion seit 391 n. Chr. - Franken, Sachsen und Alemannen - Prachtige Kirchengebäude - verwandte Familien bilden eine Sippe - Germanien, Britannien, Irland - Gesetzesbücher - Adelige tragen fränkische Gewänder - Es wird mit der Hand gegessen - Wotan und Brunhilde - Völkerwanderung - im Jahre 476 n. Chr. untergegangen - riesiges Straßennetz - Verfahren der Steuererhebung - keine Schriftsprache - Bauern mit eigenem Gehöft und Ackerfläche - Bischof von Rom als anerkanntes Oberhaupt - Jüngstes Gericht.

DAS FRANKENREICH

5. In welchem Zusammenhang stehen die folgenden Begriffspaare. Erläutere!

Merowinger – Pippin

\_\_\_\_\_

Karl der Große – Kaiser

\_\_\_\_\_

Otto I. – Ostfränkisches Reich

\_\_\_\_\_

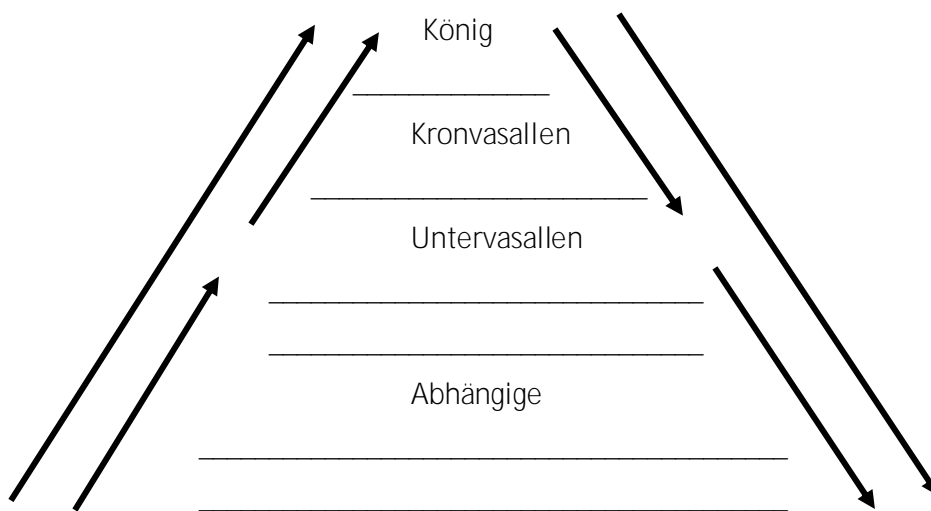
DAS LEHNSWESEN

10. Erläutere: Was ist ein Lehnsherr, Lehnsmann (Vasall), Lehen?

11. Füge die Personen unten in die entsprechende Stelle in der Lehnspyramide ein.

Bischof Karl - Bauer Bernhard - Ritter Heinrich - Herzog Wernher - Pippin I. - Abt Ludwig - Graf Ronald.

12. Beschrifte anschließend die Pfeile in der Lehnspyramide im Hinblick auf die wechselseitigen Verpflichtungen von Lehnsherr, Vasall und Abhängigen.



13. Das Bild M2 bezieht sich auf einen der drei Akte einer Belehnung. Notiere, auf welchen Teil der Zeremonie sich der Akt bezieht und erläutere diesen. Schreibe alle Akte der Übergabe eines Lehens in ihrer korrekten Reihenfolge auf.



M2 Karl der Große und ein Vasall  
(commons.wikimedia.org / gemeinfrei)

14. Nenne Beispiele für vergleichbare Verleihungen in der Gegenwart. Welche Vereinbarungen werden heute noch symbolisch und nicht schriftlich getroffen? .



**SCHOOL-SCOUT.DE**

Unterrichtsmaterialien in digitaler und in gedruckter Form

**Auszug aus:**

*Geschichtstest Grundlagen des Mittelalters und das Reich der  
Franken*

Das komplette Material finden Sie hier:

[School-Scout.de](http://School-Scout.de)

