

# SCHOOL-SCOUT.DE

Unterrichtsmaterialien in digitaler und in gedruckter Form

## Auszug aus:

*Rund ums Hunderterfeld (Kartei)*

Das komplette Material finden Sie hier:








[School-Scout.de](http://School-Scout.de)



1

Welche Zahlen sind hier verdeckt?  
Schreibe die Zahlen auf:










1	2	3	4	5	6	7	8	9	10
11	12	13	14	15	16	17	18	19	
21	22	23		25	26	27	28	29	30
31	32	33	34	35	36	37	38	39	40
41	42	43	44	45	46	47	48		50
51		53	54	55	56	57	58	59	60
61	62	63	64		66	67	68	69	70
71	72	73	74	75	76	77	78	79	80
81		83	84	85	86	87		89	90
91	92	93	94	95	96	97	98	99	100

2

Welche Zahlen sind hier verdeckt?  
Schreibe die Zahlen auf:



1		3	4	5	6	7	8	9	10
11	12	13	14	15	16	17	18	19	20
21	22	23	24	25	26		28	29	30
31	32	33	34	35	36	37	38	39	40
41	42	43	44	45	46	47	48	49	
51	52	53	54		56	57	58	59	60
61	62	63	64	65	66	67	68	69	70
71	72		74	75	76	77		79	80
81	82	83	84	85	86	87	88	89	90
91		93	94	95	96	97	98	99	100

1

Lösung:

20, 24, 49, 52, 65, 82, 88

1	2	3	4	5	6	7	8	9	10
11	12	13	14	15	16	17	18	19	20
21	22	23	24	25	26	27	28	29	30
31	32	33	34	35	36	37	38	39	40
41	42	43	44	45	46	47	48	49	50
51	52	53	54	55	56	57	58	59	60
61	62	63	64	65	66	67	68	69	70
71	72	73	74	75	76	77	78	79	80
81	82	83	84	85	86	87	88	89	90
91	92	93	94	95	96	97	98	99	100

2

Lösung:

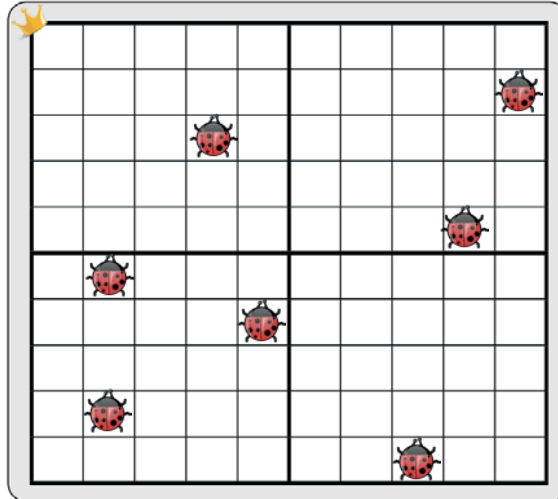
2, 27, 50, 55, 73, 78, 92

1	2	3	4	5	6	7	8	9	10
11	12	13	14	15	16	17	18	19	20
21	22	23	24	25	26	27	28	29	30
31	32	33	34	35	36	37	38	39	40
41	42	43	44	45	46	47	48	49	50
51	52	53	54	55	56	57	58	59	60
61	62	63	64	65	66	67	68	69	70
71	72	73	74	75	76	77	78	79	80
81	82	83	84	85	86	87	88	89	90
91	92	93	94	95	96	97	98	99	100



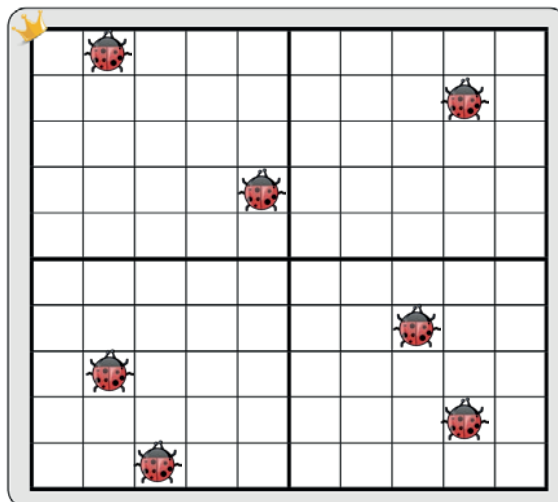
Auf welchen Zahlen sitzt der Marienkäfer? Schreibe die Zahlen in der richtigen Reihenfolge auf:

---



Auf welchen Zahlen sitzt der Marienkäfer? Schreibe die Zahlen in der richtigen Reihenfolge auf:

---





Lösung:

20, 24, 49, 52, 65, 82, 98

1	2	3	4	5	6	7	8	9	10
11	12	13	14	15	16	17	18	19	20
21	22	23	24	25	26	27	28	29	30
31	32	33	34	35	36	37	38	39	40
41	42	43	44	45	46	47	48	49	50
51	52	53	54	55	56	57	58	59	60
61	62	63	64	65	66	67	68	69	70
71	72	73	74	75	76	77	78	79	80
81	82	83	84	85	86	87	88	89	90
91	92	93	94	95	96	97	98	99	100



Lösung:

2, 19, 35, 68, 72, 89, 93

1	2	3	4	5	6	7	8	9	10
11	12	13	14	15	16	17	18	19	20
21	22	23	24	25	26	27	28	29	30
31	32	33	34	35	36	37	38	39	40
41	42	43	44	45	46	47	48	49	50
51	52	53	54	55	56	57	58	59	60
61	62	63	64	65	66	67	68	69	70
71	72	73	74	75	76	77	78	79	80
81	82	83	84	85	86	87	88	89	90
91	92	93	94	95	96	97	98	99	100

5

Welche Zahlen fehlen in diesem Hunderterfeld? Schreibe sie auf:

---



1	2	3		5	6	7	8	9	10
11	12	13	14	15	16	17	18	19	20
21	22	23	24		26	27	28	29	30
31	32	33	34	35	36	37	38		40
41	42	43	44	45	46	47	48	49	50
51	52	53		55	56	57	58	59	60
61	62	63	64	65	66	67	68		70
71	72		74	75	76	77	78	79	80
81	82	83	84	85		87	88	89	90
91	92	93	94	95	96	97	98		100

6

Welche Zahlen fehlen in diesem Hunderterfeld? Schreibe sie auf:

---



1	2	3	4	5	6		8	9	10
11	12	13	14	15	16	17	18	19	20
21		23	24	25	26	27	28		30
31	32	33	34		36	37	38	39	40
41	42	43	44	45	46	47	48		50
51	52	53	54	55	56	57	58	59	60
61	62	63	64	65	66	67		69	70
71	72		74	75	76	77	78	79	80
81	82	83	84	85	86	87	88	89	90
91	92	93	94	95		97	98	99	100

5

Lösung:

4, 25, 39, 54, 69, 73, 86, 99

1	2	3	4	5	6	7	8	9	10
11	12	13	14	15	16	17	18	19	20
21	22	23	24	25	26	27	28	29	30
31	32	33	34	35	36	37	38	39	40
41	42	43	44	45	46	47	48	49	50
51	52	53	54	55	56	57	58	59	60
61	62	63	64	65	66	67	68	69	70
71	72	73	74	75	76	77	78	79	80
81	82	83	84	85	86	87	88	89	90
91	92	93	94	95	96	97	98	99	100

6

Lösung:

7, 22, 29, 35, 49, 68, 73, 96

1	2	3	4	5	6	7	8	9	10
11	12	13	14	15	16	17	18	19	20
21	22	23	24	25	26	27	28	29	30
31	32	33	34	35	36	37	38	39	40
41	42	43	44	45	46	47	48	49	50
51	52	53	54	55	56	57	58	59	60
61	62	63	64	65	66	67	68	69	70
71	72	73	74	75	76	77	78	79	80
81	82	83	84	85	86	87	88	89	90
91	92	93	94	95	96	97	98	99	100

9

Male folgende Zahlen im Hunderterfeld farbig an und notiere ihre Vorgänger:

9, 23, 38, 57, 72, 93, 100

1	2	3	4	5	6	7	8	9	10
11	12	13	14	15	16	17	18	19	20
21	22	23	24	25	26	27	28	29	30
31	32	33	34	35	36	37	38	39	40
41	42	43	44	45	46	47	48	49	50
51	52	53	54	55	56	57	58	59	60
61	62	63	64	65	66	67	68	69	70
71	72	73	74	75	76	77	78	79	80
81	82	83	84	85	86	87	88	89	90
91	92	93	94	95	96	97	98	99	100



10

Male folgende Zahlen im Hunderterfeld farbig an und notiere ihre Nachfolger:

1, 18, 49, 61, 77, 89, 93

1	2	3	4	5	6	7	8	9	10
11	12	13	14	15	16	17	18	19	20
21	22	23	24	25	26	27	28	29	30
31	32	33	34	35	36	37	38	39	40
41	42	43	44	45	46	47	48	49	50
51	52	53	54	55	56	57	58	59	60
61	62	63	64	65	66	67	68	69	70
71	72	73	74	75	76	77	78	79	80
81	82	83	84	85	86	87	88	89	90
91	92	93	94	95	96	97	98	99	100





# SCHOOL-SCOUT.DE

Unterrichtsmaterialien in digitaler und in gedruckter Form

## Auszug aus:

*Rund ums Hunderterfeld (Kartei)*

Das komplette Material finden Sie hier:

[School-Scout.de](http://School-Scout.de)

