



SCHOOL-SCOUT.DE

Unterrichtsmaterialien in digitaler und in gedruckter Form

Auszug aus:

Die kleinen Lerndrachen - Mathematik - 3. Schuljahr

Das komplette Material finden Sie hier:

School-Scout.de



Lieber Leser, liebe Leserin!

Möglicherweise ist dir noch nicht klar, dass Mathe auch Spaß machen kann. Vorausgesetzt, man hat den Durchblick und etwas Sicherheit im Umgang mit Zahlen und Formeln. Dieses Buch kann dir helfen, beides zu erlangen.

Hier findest du Aufgaben, die dir den Zahlenraum bis 1000 und das Rechnen darin erläutern. Hoffentlich macht es dir Spaß, sie zu lösen. Und durch das Lösen der Aufgaben wiederholst du die Zusammenhänge, die für das Rechnen im ersten Tausender wichtig sind.

Du solltest immer mindestens eine Doppelseite im Buch bearbeiten, weil sie eine Lerneinheit bildet. Die Lösungen kannst du hinten nachschlagen, aber immer erst dann, wenn du fertig gerechnet hast. Beschummle dich also nicht selbst!



So, und nun ran an die Arbeit und viel Spaß!

 2	Auf dem Tennisplatz	Bündelungen
 4	Hier wird verpackt	Bündeln und Entbündeln
 6	Die Geldwechsler	Bündeln und Entbündeln
 8	Am Bankschalter	Zehnersystem
 10	Beim Volkslauf	Vergleichen von Zahlen, $>$ und $<$
 12	Der Superrechner	Rechnen im Tausender
 14	Rechentürme	Rechnen mit Zehnern und Hundertern
 16	Findest du zum Ziel?	Zehner- und Hunderterübergänge
 18	Kombinieren ist gefordert	Zahlenfolgen
 20	Falten und schneiden	Symmetrische Figuren
 22	In Wald und Flur	Symmetrie
 24	Beim Einkaufen	Geldwerte
 26	Es geht auch ohne Taschenrechner	Halbschriftliches Rechnen
 28	Das Sparbuch	Rechnen mit Hundertern und Zehnern
 30	Konzentration ist wichtig	Konzentrationstraining
32	Lösungen	


Auf dem Tennisplatz

Timo und Evi schauen ihrem Freund Jan zu, der Tennisunterricht hat. Der Trainer spielt ihm die Bälle zu, die er mit der Vorhand zurückschlagen muss. Es klappt schon ganz gut. Jan steht inzwischen in einem Meer von Tennisbällen. Wie viele mögen das wohl sein?

1 Kreise immer 10 Bälle ein.

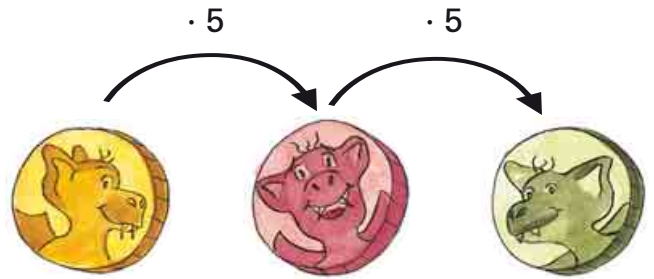
Wie viele Kreise erhältst du? _____

Wie viele Bälle sind es also? _____



Die Geldwechsler


Julia und Stefan haben für ihr Spiel eigenes Geld entwickelt. Sie verwenden gelbe, rote und grüne Münzen. So müssen die Münzen umgewechselt werden:



1 Kannst du diese Münzen wechseln?

Zeichne erst die roten Linien, dann die grünen ein.

Du erhältst _____ grüne Münzen,
 _____ rote Münzen,
 _____ gelbe Münzen.





SCHOOL-SCOUT.DE

Unterrichtsmaterialien in digitaler und in gedruckter Form

Auszug aus:

Die kleinen Lerndrachen - Mathematik - 3. Schuljahr

Das komplette Material finden Sie hier:

School-Scout.de

