



SCHOOL-SCOUT.DE

Unterrichtsmaterialien in digitaler und in gedruckter Form

Auszug aus:

Klassenarbeiten und Tests für das 4. Schuljahr

Das komplette Material finden Sie hier:

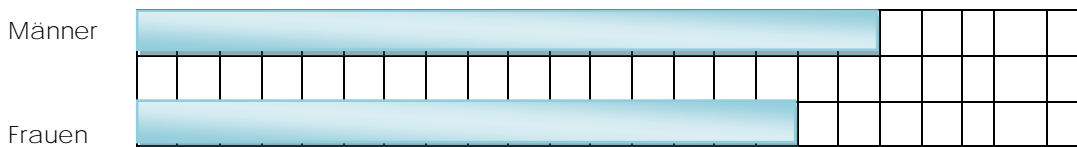
School-Scout.de



(5) Ordne die Gewichte den Gegenständen zu. Du kannst sie durch einen Pfeil miteinander verbinden.

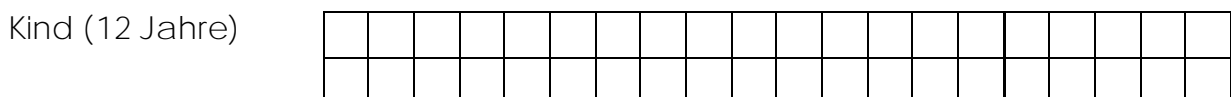
3500 kg	Wasserflasche
65 kg	Frau
1 g	10 € Schein
1 kg	LKW

(6) Die Balken zeigen, wie groß Männer und Frauen in Deutschland im Durchschnitt sind. Ein Kästchen entspricht 10 cm. Wie groß sind Männer und Frauen durchschnittlich?



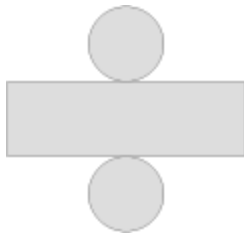
Antwort: _____

(7) Ein 12 Jahre altes Kind ist durchschnittlich 1m 50 cm groß. Zeichne den passenden Balken dazu. 10 cm entsprechen wieder einem Kästchen.

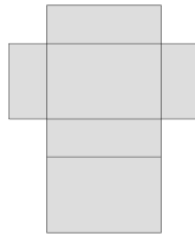


(5) Fülle die Tabelle aus.

A



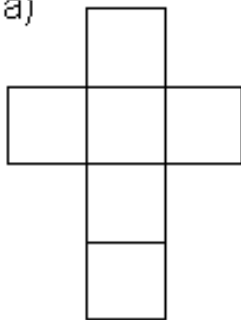
B



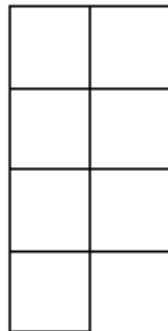
	Name des Körpers	Anzahl der Ecken	Anzahl der Flächen	Anzahl der Kanten
A				
B				

(6) Welche von diesen Figuren ergibt zusammengeklappt einen Würfel?

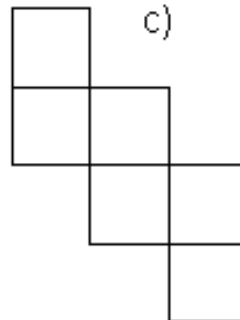
a)



b)

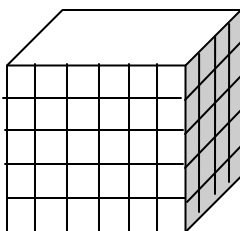


c)



Antwort: _____

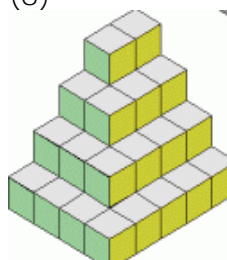
(7)



Aus wie vielen kleinen Würfeln besteht dieser Behälter?

Antwort: _____

(8)



Aus wie vielen Würfeln besteht diese Würfelpyramide?

Antwort: _____



SCHOOL-SCOUT.DE

Unterrichtsmaterialien in digitaler und in gedruckter Form

Auszug aus:

Klassenarbeiten und Tests für das 4. Schuljahr

Das komplette Material finden Sie hier:

School-Scout.de

