



SCHOOL-SCOUT.DE

Unterrichtsmaterialien in digitaler und in gedruckter Form

Auszug aus:

*Mathematikaufgaben für die Grundschule: Rechnen mit Zeiten
in Klasse 2 bis 4*

Das komplette Material finden Sie hier:

School-Scout.de





1. Wie spät ist es?




_____ Uhr



_____ Uhr



_____ Uhr



_____ Uhr




_____ Uhr




_____ Uhr


2. Wie spät ist es? Zeichne die fehlenden Zeiger ein...




14:00 Uhr




20:15 Uhr




10:05 Uhr



02:00 Uhr



08:30 Uhr



18:58 Uhr



3. Eine Stunde hat 60 Minuten. Kannst du die folgenden Zeitangaben in Minuten umrechnen?

- a) 1 Stunde und 30 Minuten sind _____ Minuten.
- b) 1 Stunde und 17 Minuten sind _____ Minuten.
- c) 1 Stunde und 40 Minuten sind _____ Minuten.
- d) 1 Stunde und 9 Minuten sind _____ Minuten.
- e) 1 Stunde und 56 Minuten sind _____ Minuten.
- f) 2 Stunden und 1 Minute sind _____ Minuten.
- g) 0 Stunden und 59 Minuten sind _____ Minuten.

4. Jan hat eine Uhr geschenkt bekommen. In Gedanken überlegt er folgendes:



Es ist jetzt _____ Uhr. In einer halben Stunde ist es _____ Uhr.



Wenn es _____ Uhr ist, dann ist es 15 Minuten später _____ Uhr.



Wenn es _____ Uhr ist, dann ist es in 2 Stunden _____ Uhr.



Jetzt ist es _____ Uhr. In 45 Minuten muss es dann _____ Uhr sein.



Wenn es jetzt _____ Uhr ist, dann war es vor 20 Minuten _____ Uhr.



SCHOOL-SCOUT.DE

Unterrichtsmaterialien in digitaler und in gedruckter Form

Auszug aus:

*Mathematikaufgaben für die Grundschule: Rechnen mit Zeiten
in Klasse 2 bis 4*

Das komplette Material finden Sie hier:

School-Scout.de

